

Accelerated Adult Learning (Functional Literacy) **Learner's Book**



ISEC 

Improving Skills and
Economic Opportunities
for Cox's Bazar

Prepared in 2023 by the United Nations Educational, Scientific and Cultural Organization (UNESCO)
Dhaka Office

© UNESCO



This document is available in Open Access under the Attribution-ShareAlike 3.0 IGO (CC-BY-SA 3.0 IGO) license (<http://creativecommons.org/licenses/by-sa/3.0/igo/>). By using the content of this publication, the users accept to be bound by the terms of use of the UNESCO Open Access Repository (<http://www.unesco.org/open-access/terms-use-ccbysa-en>).

The designations employed and the presentation of material throughout this publication do not imply the expression of any opinion whatsoever on the part of UNESCO concerning the legal status of any country, territory, city or area or of its authorities, or concerning the delimitation of its frontiers or boundaries.

The ideas and opinions expressed in this publication are those of the authors; they are not necessarily those of UNESCO and do not commit the Organization.

Author and Editor

James Jennings, Educational Consultant
Saidus Saklaen, National Consultant
Kyi Hnin Khaing, Burmese-speaking Consultant

Graphic Design

Sazzad Majumdar

Acknowledgement

As the Forcibly Displaced Myanmar Nationals (FDMN) Response in Bangladesh has entered into its sixth year, the protracted nature of the Rohingya situation and the prevailing challenging context in Myanmar will continue to lead to further uncertainty in the Rohingya population and sustained pressure on the host country. This underlines the compelling need for a 'comprehensive strategy' to address the Rohingya situation in Bangladesh, which draws upon the capacities of a wide range of partners from across society.

In the meantime, robust support must be sustained to Bangladesh and to the Rohingya population to ensure they can live safely and decently, and are able to educate and skill themselves in preparation for repatriation and reintegration.

Youth and adult learning and education have become even more crucial in a humanitarian context where education and skills development can provide both a protective role and hope for the future. According to sector specific assessments produced by the Inter-Sector Coordination Group (ISCG) (J-MSN 2021-2022), a significant number of adults, youth, and adolescents in the camps lack basic literacy and numeracy skills due to the absence of formal education and the lack of a mechanism to recognize skills acquired by the Rohingya population, and this is a significant impediment to livelihood training activities.

In this given context and with the generous support from UNHCR and Global Affairs Canada, UNESCO has developed the Integrated Literacy and Livelihood Skills Development Course Package for youth and adults that includes Basic Literacy, Functional Literacy, Placement Test Tools, Learning Assessment Guidelines and Tools, Teachers' Guidebooks and other supplementary learning materials through a consultative and piloting process.

The Basic Literacy course requires 240 hours (around 4 months) of study, whereas the Functional Literacy course requires 120 hours (around 2 months) to complete. The lessons in these courses introduce and reinforce the vocabulary needed for learners to be prepared for training and apprenticeships for specific livelihood skills. To the extent possible vocabulary related to specific trades has been introduced and reinforced. The entire content is centered around livelihoods and skills, with a major focus on trades such as barber, carpenter, community health worker, craftsman, electrician, food processor, mason, mechanic, plumber, and tailor. The lessons introduce and reinforce concepts and vocabulary related to the promotion of life skills. These encompass various topics such as "Inclusion," "Gender Mainstreaming," "Equal Rights," "Education and Sustainable Development," "Environmental Sustainability," "Global Citizenship," "Healthy Diet," and "Healthy Living." Recognition of Prior Learning (RPL) will ensure that learners are appropriately enrolled in either the basic literacy course or the functional literacy course.

The literacy package, as part of the Accelerated Adult Learning (AAL) Programme, aims to equip FDMN youth and adults in refugee camps in Bangladesh with Basic and Functional Literacy and Numeracy skills for transition to livelihood skills. It offers basic literacy and numeracy in English and Burmese, functional literacy and numeracy in English with consolidation of basic literacy skills in Burmese in preparation for livelihood skills training.

I would like to extend my gratitude to the UNHCR, Global Affairs Canada, Refugee Relief and Repatriation Commissioner, Livelihoods and Skills Development Sector, BRAC and other UN Agencies, Development Partners, International and National NGOs for their incredible support to develop the youth and adult literacy course package and adopting in their systems to use throughout the Livelihoods and Skills Development Sector in Cox's Bazar, Bangladesh.

I would like to acknowledge the contributions of the expert team, particularly Mr. James Jennings, Mr. Saidus Saklaen, Ms. Kyi Hnin Khaing and Mr. Sazzad Majumdar, and the Rohingya volunteers for their best efforts in developing the Integrated Literacy and Livelihood Skills Development package for Rohingya Youth and Adults.

I sincerely thank my colleagues at the UNESCO Institute for Lifelong Learning (UIL) and UNESCO Dhaka Office for their technical guidance and overall coordination of the literacy package development process.

Finally, I hope that the literacy package will succeed in engaging the attention of policymakers, practitioners and youth and adult Rohingya learners.



Susan Vize
Head of Office and
UNESCO Representative to Bangladesh

Lesson	Lesson Title	Page
Lesson 1	Keeping Time	1
Lesson 2	Days of the Week	5
Lesson 3	Months of the Year	10
Lesson 4	Skills for Trades	15
Lesson 5	Tools for Trades	19
Lesson 6	Training for Trades	23
Lesson 7	A Barber's Skills	27
Lesson 8	A Barber's Tools	30
Lesson 9	A Barber's Story	34
Lesson 10	Review	38
Lesson 11	A Tailor's Skills	42
Lesson 12	A Tailor's Tools	46
Lesson 13	A Tailor's Story	50
Lesson 14	A Carpenter's Skills	54
Lesson 15	A Carpenter's Tools	57
Lesson 16	A Carpenter's Story	61
Lesson 17	A Plumber's and a Pipefitter's Skills	65
Lesson 18	A Plumber's and a Pipefitter's Tools	69
Lesson 19	A Plumber's Story	72
Lesson 20	Review	76
Lesson 21	A Community Health Worker's Skills	80
Lesson 22	A Community Health Worker's Kit	84
Lesson 23	A Community Health Worker's Story	88
Lesson 24	A Mechanic's Skills	92
Lesson 25	A Mechanic's Tools	96
Lesson 26	A Mechanic's Story	100
Lesson 27	A Craftsperson's Skills	104
Lesson 28	A Craftsperson's Tools	108
Lesson 29	A Craftsperson's Story	112
Lesson 30	Review	116
Lesson 31	Masons' and Bricklayers' Skills	120
Lesson 32	A Bricklayer's Tools	124
Lesson 33	A Bricklayer's Story	128
Lesson 34	A Food Processor's Skills	132
Lesson 35	A Food Processor's Tools	136
Lesson 36	A Food Processor's Story	140
Lesson 37	An Electrician's Skills	144
Lesson 38	An Electrician's Tools	148
Lesson 39	An Electrician's Story	152
Lesson 40	Review	156

Lesson 1

Keeping Time

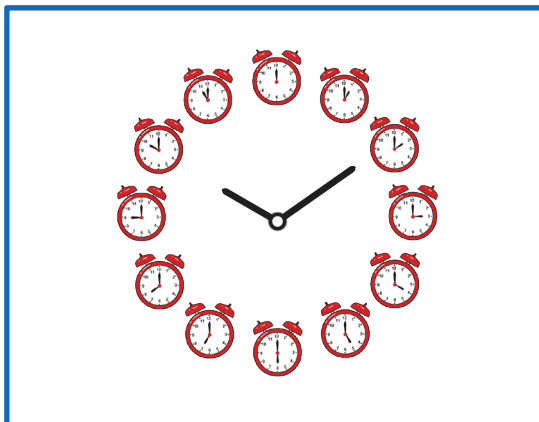
Read and discuss the sentence.



We **keep time** with a **clock**.

keep	time	clock
------	------	-------

Tell the time on the clock.



Read and write the words.

keep	keep	
time	time	
clock	clock	
o'clock	o'clock	
going	going	
training	training	
ends	ends	
hours	hours	
leave	leave	

Read the passage.

Ripa: **Hello, Faruk!**

Faruk: **Hello, Ripa!**

Ripa: **What time is it?**

Faruk: **It is 9 o'clock.**

Ripa: **Where are you going?**

Faruk: **I am going to the training.**

Ripa: **When is the training?**

Faruk: **The training is at 10 o'clock.**

Ripa: **When does the training end?**

Faruk: **The training ends at 1 o'clock.**

Ripa: **When will you leave the training?**

Faruk: **I will leave the training at 2 o'clock.**

Answer the questions for Faruk.

Ripa: What time is it?

_____.

Ripa: Where are you going?

_____.

Ripa: When is the training?

_____.

Ripa: When does the training end?

_____.

Ripa: When will you leave the training?

_____.

ဝါကျကိုဖတ်ပြီး ဆွေးနွေးပါ။

အချိန်ကို နာရီနှင့် သတ်မှတ်သည်။

သတ်မှတ်	အချိန်	နာရီ
---------	--------	------

စကားလုံးများကို ဖတ်ပြီးရေးပါ။

သတ်မှတ်သည်		ထိုးပြီ	
အချိန်		သင်တန်း	
နာရီ		ရိုပြီလဲ	

စာပိုဒ်ကို ဖတ်ပါ။

- ရီပါ။ **။မင်္ဂလာပါ ဖာရုခ်။**
- ဖာရုခ်။ **။မင်္ဂလာပါ ရီပါ။**
- ရီပါ။ **။ဘယ်အချိန်ရှိပြီလဲ။**
- ဖာရုခ်။ **။ဇွနာရီ ရှိပါပြီ။**
- ရီပါ။ **။သင်တန်းက ဘယ်အချိန်လဲ။**
- ဖာရုခ်။ **။သင်တန်းက ၁၀နာရီပါ။**

ဖာရုခ်အတွက် မေးခွန်းများကို ဖြေပါ။

ဖာရုခ်။ **။ဘယ်အချိန်ရှိပြီလဲ။**

Solve the problems.

$$\begin{array}{r} 45 \\ +24 \\ \hline \end{array}$$

$$\begin{array}{r} 47 \\ +32 \\ \hline \end{array}$$

$$\begin{array}{r} 65 \\ +24 \\ \hline \end{array}$$

$$\begin{array}{r} 67 \\ +32 \\ \hline \end{array}$$

$$\begin{array}{r} 255 \\ +344 \\ \hline \end{array}$$

$$\begin{array}{r} 512 \\ +211 \\ \hline \end{array}$$

$$\begin{array}{r} 634 \\ +345 \\ \hline \end{array}$$

$$\begin{array}{r} 172 \\ +416 \\ \hline \end{array}$$

$$\begin{array}{r} 44 \\ +35 \\ \hline \end{array}$$

$$\begin{array}{r} 472 \\ +321 \\ \hline \end{array}$$

$$\begin{array}{r} 615 \\ +243 \\ \hline \end{array}$$

$$\begin{array}{r} 306 \\ +321 \\ \hline \end{array}$$

Asma had training for 32 hours last week and 26 hours this week. How many hours of training did she have?

Lesson 2

Days of the Week

Read and discuss the sentence.





There are **seven days** in a **week**.

seven

days

week

Name the pictures and match them with the words.



tailor

mechanic

barber

health worker

plumber

electrician

Read and write the words.

Sunday	Sunday	
Monday	Monday	
Tuesday	Tuesday	
Wednesday	Wednesday	
Thursday	Thursday	
Friday	Friday	
Saturday	Saturday	

seven	<i>seven</i>	
days	<i>days</i>	
week	<i>week</i>	
today	<i>today</i>	
yesterday	<i>yesterday</i>	
tomorrow	<i>tomorrow</i>	
which	<i>which</i>	
day	<i>day</i>	
comes	<i>comes</i>	
after	<i>after</i>	
before	<i>before</i>	
next	<i>next</i>	
fruits	<i>fruits</i>	

Read and write the numbers and words.

1	one	<i>one</i>	
2	two	<i>two</i>	
3	three	<i>three</i>	
4	four	<i>four</i>	
5	five	<i>five</i>	

Read the passage.

There are seven days in a week.

Today is Monday.

Monday comes after Sunday.

Yesterday was Sunday.

Tuesday comes after Monday.
Tomorrow will be Tuesday.
The next day will be Wednesday.
After Wednesday it will be Thursday.
After Thursday it will be Friday.
After Friday it will be Saturday.
Saturday comes before Sunday.

Answer the questions.

Which day comes after Sunday?

Monday _____.

Which day comes before Wednesday?

_____.

Which day comes after Friday?

_____.

Which day comes before Friday?

_____.

Which day comes after Monday?

_____.

Which day comes before Saturday?


_____.

ဝါကျကိုဖတ်ပြီး ဆွေးနွေးပါ။

ရက်သတ္တပတ်တစ်ပတ်တွင် ခုနှစ်ရက်ရှိသည်။

ခုနှစ်	ရက်။	ရက်သတ္တပတ်
--------	------	------------

စကားလုံးများကို ဖတ်ပြီးရေးပါ။



စက်ချုပ်သမား	စက်ပြင်ဆရာ	ဆံသဆရာ	ကျန်းမာရေးဝန်ထမ်း	ရေပိုက်သမား	လျှပ်စစ်သမား
--------------	------------	--------	-------------------	-------------	--------------

စကားလုံးများကို ဖတ်ပြီးရေးပါ။

တနင်္လာ		ခုနှစ်	
အင်္ဂါ		နေ့/ရက်	
ဗုဒ္ဓဟူး		ရက်သတ္တပတ်	
ကြာသပတေး		ယနေ့	
သောကြာ		မနေ့က	
စနေ		မနက်ဖြန်	
တနင်္ဂနွေ		သန့်ဘက်ခါ	
ရှိသည်/ဖြစ်သည်		ဖိန်းနွဲ့ခါ	

ဂဏန်းများနှင့် စကားလုံးများကို ဖတ်ပြီး ရေးပါ။

၁	တစ်		၄	လေး	
၂	နှစ်		၅	ငါး	
၃	သုံး				

စာပိုဒ်ကို ဖတ်ပါ။

ရက်သတ္တပတ်တစ်ပတ်တွင် ခုနှစ်ရက်ရှိသည်။

ယနေ့သည် တနင်္လာနေ့ဖြစ်ပြီး မနေ့ကသည် တနင်္ဂနွေနေ့ဖြစ်သည်။

မနက်ဖြန်သည် အင်္ဂါနေ့ဖြစ်ပြီး သန်ဘက်ခါသည် ဗုဒ္ဓဟူးနေ့ဖြစ်သည်။

ဖိန်းနွဲ့ခါသည် ကြာသပတေးနေ့ဖြစ်သည်။

မေးခွန်းများကို ဖြေပါ။

ရက်သတ္တပတ်တစ်ပတ်တွင် ဘယ်နှစ်ရက် ရှိသနည်း။

Solve the problems.

$$\begin{array}{r} 37 \\ +31 \\ \hline \end{array}$$

$$\begin{array}{r} 46 \\ +22 \\ \hline \end{array}$$

$$\begin{array}{r} 75 \\ +14 \\ \hline \end{array}$$

$$\begin{array}{r} 67 \\ +31 \\ \hline \end{array}$$

$$\begin{array}{r} 345 \\ +234 \\ \hline \end{array}$$

$$\begin{array}{r} 412 \\ +336 \\ \hline \end{array}$$

$$\begin{array}{r} 642 \\ +245 \\ \hline \end{array}$$

$$\begin{array}{r} 272 \\ +517 \\ \hline \end{array}$$

$$\begin{array}{r} 66 \\ +33 \\ \hline \end{array}$$

$$\begin{array}{r} 372 \\ +411 \\ \hline \end{array}$$

$$\begin{array}{r} 416 \\ +283 \\ \hline \end{array}$$

$$\begin{array}{r} 326 \\ +301 \\ \hline \end{array}$$

Hakim has 23 papayas and 61 apples. How many fruits does Hakim have?

Lesson 3

Months of the Year



Read and discuss the sentence.



There are **twelve months** in a **year**.

twelve	months	year
--------	--------	------

Name the pictures and match them with the words.



tailor

mechanic

mason

barber

health
worker

carpenter

Read and write the words.

January	January	
February	February	
March	March	

April	April	
May	May	
June	June	
July	July	
August	August	
September	September	
October	October	
November	November	
December	December	
twelve	twelve	
months	months	
year	year	
last	last	
next	next	
first	first	
books	books	
read	read	

Read and write the numbers and words.

6	six	six	
7	seven	seven	
8	eight	eight	
9	nine	nine	
10	ten	ten	

Read the passage.

This month is March.

Last month was February.

Next month will be April.

After April it will be May.

After May it will be June.

The first month of the year is January.

The last month of the year is December.

Answer the questions.

Which month comes after June?

July_____.

Which month comes before June?

_____.

Which month comes after February?

_____.

Which month is the first month of the year?
_____.

Which month is the last month of the year?
_____.

ဝါကျကိုဖတ်ပြီး ဆွေးနွေးပါ။

တစ်နှစ်တွင် ဆယ့်နှစ်လရှိသည်။

ဆယ့်နှစ်	လ	နှစ်
----------	---	------

ပုံများ၏ အမည်ကို ရွတ်ဆိုပြီး စကားလုံးများနှင့် တွဲဖက်ပါ။



စက်ချုပ်သမား	စက်ပြင်ဆရာ	ပန်းရံသမား	ဆံသဆရာ	ကျန်းမာရေးဝန်ထမ်း	လက်သမား
--------------	------------	------------	--------	-------------------	---------

စကားလုံးများကို ဖတ်ပြီးရေးပါ။

ဇန်နဝါရီ		စက်တင်ဘာ	
ဖေဖော်ဝါရီ		အောက်တိုဘာ	
မတ်		နိုဝင်ဘာ	
ဧပြီ		ဒီဇင်ဘာ	
မေ		ဆယ့်နှစ်လ	
ဇွန်		နှစ်	

ဇူလိုင်		ပြီးခဲ့သော	
ဩဂုတ်		ပြီး/နောက်	

ဂဏန်းများနှင့် စကားလုံးများကို ဖတ်ပြီး ရေးပါ။

၆	ခြောက်		၉	ကိုး	
၇	ခုနစ်		၁၀	တစ်ဆယ်	
၈	ရှစ်				

စာပိုဒ်ကို ဖတ်ပါ။

ယခုလသည် မတ်လဖြစ်ပြီး ပြီးခဲ့သောလသည် ဖေဖော်ဝါရီလ ဖြစ်သည်။
 နောက်လသည် ဧပြီလဖြစ်ပြီး ဧပြီလပြီးနောက် မေလလာသည်။

မေးခွန်းများကို ဖြေပါ။

ဇွန်လပြီးနောက် မည်သည့်လ လာမည်နည်း။

_____ ဇူလိုင် _____

Solve the problems.

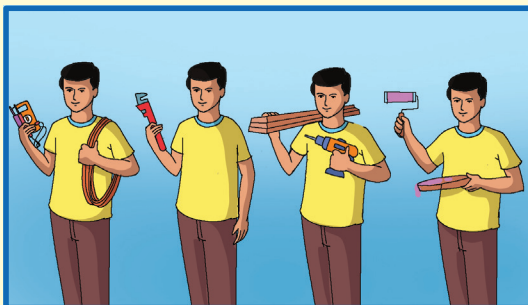
$\begin{array}{r} 47 \\ +36 \\ \hline \end{array}$	$\begin{array}{r} 46 \\ +55 \\ \hline \end{array}$	$\begin{array}{r} 78 \\ +14 \\ \hline \end{array}$	$\begin{array}{r} 69 \\ +35 \\ \hline \end{array}$
$\begin{array}{r} 334 \\ +627 \\ \hline \end{array}$	$\begin{array}{r} 618 \\ +159 \\ \hline \end{array}$	$\begin{array}{r} 314 \\ +567 \\ \hline \end{array}$	$\begin{array}{r} 377 \\ +517 \\ \hline \end{array}$
$\begin{array}{r} 56 \\ +38 \\ \hline \end{array}$	$\begin{array}{r} 369 \\ +412 \\ \hline \end{array}$	$\begin{array}{r} 416 \\ +556 \\ \hline \end{array}$	$\begin{array}{r} 326 \\ +508 \\ \hline \end{array}$

Jasmin read 37 books last year. She read 26 books this year. How many books did she read in two years?

Lesson 4

Skills for Trades


Read and discuss the sentence.



Different trades need different skills.

trades	need	different	skills
--------	------	-----------	--------

Name the pictures and match them with the words.



tailor	mechanic	barber	plumber	craftsperson	food processor
--------	----------	--------	---------	--------------	----------------

Read and write the words.

trades	trades	
need	need	
different	different	
skills	skills	
mason	mason	

barber	barber	
build	build	
house	house	
people	people	

Read and write the numbers and words.

11	eleven	eleven	
12	twelve	twelve	
13	thirteen	thirteen	
14	fourteen	fourteen	
15	fifteen	fifteen	

Read the passage.

Barber: **Hello. What is your trade?**

Mason: **I am a mason.
What is your trade?**

Barber: **I am a barber.**

Mason: **What skills does a barber need?**

Barber: **A barber needs different skills.
A barber can cut hair.
What skills does a mason need?**

Mason: **A mason needs different skills.
A mason can build a house.**

Answer the questions.

What skills does a barber need?

What can a barber cut?

What skills does a mason need?


What can a mason build?

ဝါကျကိုဖတ်ပြီး ဆွေးနွေးပါ။

မတူညီသော လုပ်ငန်းများအတွက် မတူညီသော ကျွမ်းကျင်မှုများ လိုအပ်ပါသည်။

လုပ်ငန်းများ	လိုအပ်ပါသည်	မတူညီသော	ကျွမ်းကျင်မှုများ
--------------	-------------	----------	-------------------

ပုံများ၏ အမည်ကို ရွတ်ဆိုပြီး စကားလုံးများနှင့် တွဲဖက်ပါ။



စက်ချုပ်သမား	စက်ပြင်ဆရာ	ဆံသဆရာ	ရေပိုက်သမား	လက်မှုပညာရှင်	အစားအစာ ထုပ်ပိုးပြင်ဆင်သူ
--------------	------------	--------	-------------	---------------	---------------------------

စကားလုံးများကို ဖတ်ပြီးရေးပါ။

လုပ်ငန်းများ		ပန်းရံသမား	
လိုအပ်သည်		ဆံသဆရာ	
မတူညီသော		တည်/ဆောက်သည်	
ကျွမ်းကျင်မှုများ		အိမ်	

ဂဏန်းများနှင့် စကားလုံးများကို ဖတ်ပြီး ရေးပါ။

၁၁	ဆယ့်တစ်		၁၄	ဆယ့်လေး	
၁၂	ဆယ့်နှစ်		၁၅	ဆယ့်ငါး	
၁၃	ဆယ့်သုံး				

စာပိုဒ်ကို ဖတ်ပါ။

ပန်းရံသမား။ ။ဆံသဆရာက ဘယ်လိုကျွမ်းကျင်မှုတွေ လိုအပ်သလဲ။
 ဆံသဆရာ။ ။ဆံသဆရာက ဆံပင်ညှပ်နိုင်ရပါတယ်။
 ပန်းရံသမားကကော ဘယ်ကျွမ်းကျင်မှုတွေ လိုအပ်ပါသလဲ။
 ပန်းရံသမား။ ။ပန်းရံသမားက အိမ်ဆောက်နိုင်ရပါတယ်။

မေးခွန်းများကို ဖြေပါ။

ပန်းရံသမားတွင် မည်သည့်ကျွမ်းကျင်မှု လိုအပ်သနည်း။

Solve the problems.

$$\begin{array}{r} 58 \\ +43 \\ \hline \end{array}$$

$$\begin{array}{r} 36 \\ +77 \\ \hline \end{array}$$

$$\begin{array}{r} 66 \\ +14 \\ \hline \end{array}$$

$$\begin{array}{r} 29 \\ +48 \\ \hline \end{array}$$

$$\begin{array}{r} 339 \\ +623 \\ \hline \end{array}$$

$$\begin{array}{r} 728 \\ +139 \\ \hline \end{array}$$

$$\begin{array}{r} 367 \\ +588 \\ \hline \end{array}$$

$$\begin{array}{r} 346 \\ +428 \\ \hline \end{array}$$

$$\begin{array}{r} 76 \\ +26 \\ \hline \end{array}$$

$$\begin{array}{r} 459 \\ +312 \\ \hline \end{array}$$

$$\begin{array}{r} 568 \\ +404 \\ \hline \end{array}$$

$$\begin{array}{r} 297 \\ +136 \\ \hline \end{array}$$

Faruk is a barber. He cut hair for 25 people last week. He cut hair for 48 people this week. How many people did Faruk cut hair for in two weeks?

Lesson 5

Tools for Trades


Read and discuss the sentence.



Different trades need different **tools**.

tools

Name the pictures and match them with the words.



mason	carpenter	craftsperson	food processor	health worker	electrician
-------	-----------	--------------	----------------	---------------	-------------

Read and write the words.

tools	tools	
plumber	plumber	
cut	cut	
pipes	pipes	
hacksaw	hacksaw	

carpenter	<i>carpenter</i>	
wood	<i>wood</i>	
electrician	<i>electrician</i>	
wire	<i>wire</i>	
house	<i>house</i>	
pliers	<i>pliers</i>	

Read and write the numbers and words.

16	sixteen	<i>sixteen</i>	
17	seventeen	<i>seventeen</i>	
18	eighteen	<i>eighteen</i>	
19	nineteen	<i>nineteen</i>	
20	twenty	<i>twenty</i>	

Read the passage.

Different trades need different tools.

What does a plumber need to cut pipes?

A plumber needs a hacksaw to cut pipes.

What does a carpenter need to cut wood?

A carpenter needs a saw to cut wood.

What does an electrician need to wire a house?

An electrician needs pliers to wire a house.

All trades need tools. Different trades need different tools.

Answer the questions.

Do different trades need different tools?

Yes. _____.

What does a plumber need to cut pipes?

_____.

What does a carpenter need to cut wood?

_____.

What does an electrician need to wire a house?


_____.

ဝါကျကိုဖတ်ပြီး ဆွေးနွေးပါ။

မတူညီသော လုပ်ငန်းများအတွက် မတူညီသော ကိရိယာများ လိုအပ်သည်။

ကိရိယာများ

ပုံများ၏ အမည်ကို ရွတ်ဆိုပြီး စကားလုံးများနှင့် တွဲဖက်ပါ။



ပန်းရံသမား	လက်သမား	လက်မှုပညာရှင်	အစားအစာထုပ်ပိုး ပြင်ဆင်သူ	လျှပ်စစ်သမား	ကျန်းမာရေး ဝန်ထမ်း
------------	---------	---------------	---------------------------	--------------	--------------------

စကားလုံးများကို ဖတ်ပြီးရေးပါ။

ကိရိယာများ		ဒိုင်းလွ	
ရေပိုက်သမား		လက်သမား	
ဖြတ်		သစ်သားချောင်း	

ဂဏန်းများနှင့် စကားလုံးများကို ဖတ်ပြီး ရေးပါ။

၁၆	ဆယ့်ခြောက်		၁၉	ဆယ့်ကိုး	
၁၇	ဆယ့်ခုနစ်		၂၀	နှစ်ဆယ်	
၁၈	ဆယ့်ရှစ်				

စာပိုဒ်ကို ဖတ်ပါ။

မတူညီသော လုပ်ငန်းများအတွက် မတူညီသောကိရိယာများ လိုအပ်သည်။
 ရေပိုက်သမားတစ်ဦး ပိုက်ဖြတ်ရန် မည်သည့်အရာ လိုအပ်သနည်း။
 ရေပိုက်သမားတစ်ဦး ပိုက်ဖြတ်ရန်အတွက် ဒိုင်းလွှတစ်ခု လိုအပ်သည်။

မေးခွန်းများကို ဖြေပါ။

ရေပိုက်သမားတစ်ဦး ပိုက်ဖြတ်ရန် မည်သည့်အရာ လိုအပ်သနည်း။

Solve the problems.

$\begin{array}{r} 68 \\ +45 \\ \hline \end{array}$	$\begin{array}{r} 136 \\ +777 \\ \hline \end{array}$	$\begin{array}{r} 78 \\ +32 \\ \hline \end{array}$	$\begin{array}{r} 218 \\ +488 \\ \hline \end{array}$
--	--	--	--

$\begin{array}{r} 3312 \\ +6233 \\ \hline \end{array}$	$\begin{array}{r} 7281 \\ +1305 \\ \hline \end{array}$	$\begin{array}{r} 2110 \\ +5882 \\ \hline \end{array}$	$\begin{array}{r} 3461 \\ +4228 \\ \hline \end{array}$
--	--	--	--


$\begin{array}{r} 7416 \\ +2657 \\ \hline \end{array}$	$\begin{array}{r} 429 \\ +432 \\ \hline \end{array}$	$\begin{array}{r} 568 \\ +279 \\ \hline \end{array}$	$\begin{array}{r} 397 \\ +235 \\ \hline \end{array}$
--	--	--	--

Asma is a plumber. She cut 158 pipes last month. She cut 217 pipes this month. How many pipes did she cut in two months?

Lesson 6

Training for Trades

Read and discuss the sentence.



Different trades need different **training**.

training

Name the pictures and match them with the words.



mechanic

electrician

craftsperson

carpenter

mason

plumber

Read and write the words.

training	training	
went	went	
gas	gas	
cylinder	cylinder	
shop	shop	

repair	<i>repair</i>	
mechanic	<i>mechanic</i>	
learn	<i>learn</i>	
become	<i>become</i>	
need	<i>need</i>	

Read the passage.

Laila: **Where did you go, Aziz?**

Aziz: **I went to the gas cylinder shop.**

Laila: **Why did you go to the gas cylinder shop?**

Aziz: **I went to the gas cylinder shop to repair cylinders.**

Laila: **Are you a gas cylinder mechanic?**

Aziz: **Yes. I am a gas cylinder mechanic.**

Laila: **How did you learn to repair gas cylinders?**

Aziz: **I had training in gas cylinder repair.**

Laila: **Can I become a gas cylinder mechanic?**

Aziz: **Yes. You need training to become a gas cylinder mechanic.**

Answer the questions.

Where did Aziz go?

Why did Aziz go to the gas cylinder shop?

Is Aziz a gas cylinder mechanic?

Yes. _____.

How did Aziz learn to repair gas cylinders?

Aziz had _____.

How can Laila become a gas cylinder mechanic?

Laila needs training to _____.

ဝါကျကိုဖတ်ပြီး ဆွေးနွေးပါ။

မတူညီသော လုပ်ငန်းများအတွက် မတူညီသော
ကျွမ်းကျင်မှုသင်တန်းများ လိုအပ်သည်။

ကျွမ်းကျင်မှုသင်တန်း

ပုံများ၏ အမည်ကို ရွတ်ဆိုပြီး စကားလုံးများနှင့် တွဲဖက်ပါ။



စက်ပြင်သမား	လျှပ်စစ်သမား	လက်မှုပညာရှင်	လက်သမား	ပန်းရံသမား	ရေပိုက်သမား
-------------	--------------	---------------	---------	------------	-------------

စကားလုံးများကို ဖတ်ပြီးရေးပါ။

ကျွမ်းကျင်မှုသင်တန်း		သင်ယူခဲ့	
ဂတ်စ်အိုးဆိုင်		စက်ပြင်သမား	
ပြုပြင်ဖို့		လိုပါတယ်။	

စာပိုဒ်ကို ဖတ်ပါ။

- လိုင်လာ။ ။အာဇီဇ် ခင်များ ဘယ်သွားခဲ့တာလဲ။
- အာဇီဇ်။ ။ဂတ်စ်အိုးတွေ ပြုပြင်ဖို့ ဂတ်စ်အိုးဆိုင်ကို သွားခဲ့တာပါ။
- လိုင်လာ။ ။ဂတ်စ်အိုးတွေကို ပြုပြင်ဖို့ ခင်များ ဘယ်လိုသင်ယူခဲ့သလဲ။
- အာဇီဇ်။ ။ဂတ်စ်အိုးတွေကို ပြုပြင်ဖို့ ဂတ်စ်အိုးပြုပြင်ရေး ကျွမ်းကျင် သင်တန်း တက်ခဲ့ပါတယ်။

မေးခွန်းများကို ဖြေပါ။

အာဇီဇ် ဘယ်သွားခဲ့သနည်း။

Solve the problems.

$\begin{array}{r} 6108 \\ +1451 \\ \hline \end{array}$	$\begin{array}{r} 1362 \\ +7437 \\ \hline \end{array}$	$\begin{array}{r} 1478 \\ +2320 \\ \hline \end{array}$	$\begin{array}{r} 2115 \\ +4884 \\ \hline \end{array}$
$\begin{array}{r} 3366 \\ +6277 \\ \hline \end{array}$	$\begin{array}{r} 4695 \\ +1305 \\ \hline \end{array}$	$\begin{array}{r} 2787 \\ +5888 \\ \hline \end{array}$	$\begin{array}{r} 6794 \\ +2608 \\ \hline \end{array}$
$\begin{array}{r} 7416 \\ +2152 \\ \hline \end{array}$	$\begin{array}{r} 21423 \\ +14326 \\ \hline \end{array}$	$\begin{array}{r} 35680 \\ +42300 \\ \hline \end{array}$	$\begin{array}{r} 31007 \\ +23502 \\ \hline \end{array}$

Aziz is a mechanic. He repaired 2324 gas cylinders last year. He repaired 1452 gas cylinders this year. How many gas cylinders did he repair in two years?

Lesson 7

A Barber's Skills


Read and discuss the sentence.



A barber cuts hair and has many skills.

barber	hair	skills
--------	------	--------

Name the pictures and match them with the words.



craftsperson	food processor	tailor	mechanic	barber	plumber
--------------	----------------	--------	----------	--------	---------

Read and write the words.

barber	barber	
hair	hair	
skills	skills	
haircut	haircut	
market	market	
roadsides	roadsides	
mobile	mobile	
many	many	

there	there	
types	types	
barbershops	barbershops	
people	people	

Read the passage.

- Ripa: **Did you have a haircut, Alom?**
 Alom: **Yes, Ripa. I had a haircut.**
 Ripa: **Did you go to the barber in the market?**
 Alom: **Yes, I went to the barber in the market.**
 Ripa: **We see barbers on the roadsides too.**
 Alom: **Yes, they are mobile barbers.**
 Ripa: **How many types of barbers are there?**
 Alom: **There are barbers with barbershops.
 There are mobile barbers.
 There are many types of barbers.**

Answer the questions.

Did Alom have a haircut?

Yes. Alom _____.

Did Alom go to the barbershop in the market?

Yes. _____.

Do we see barbers on the roadsides?

Yes. _____.

How many types of barbers are there?

There are _____.

ဝါကျကိုဖတ်ပြီး ဆွေးနွေးပါ။

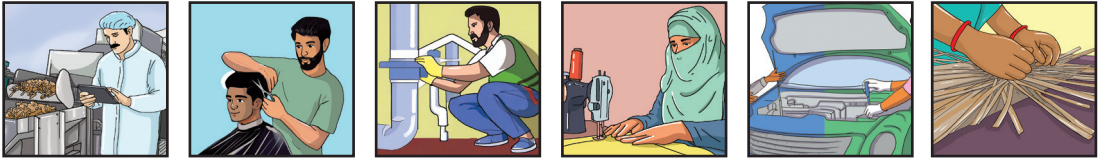
ဆံသဆရာအမျိုးအစားများစွာ ရှိပါသည်။

ဆံသဆရာ

အမျိုးအစား

များစွာ

ပုံများ၏ အမည်ကို ရွတ်ဆိုပြီး စကားလုံးများနှင့် တွဲဖက်ပါ။



လက်မှုပညာရှင်	အစားအစာ ထုပ်ပိုးပြင်ဆင်သူ	စက်ချုပ်သမား	စက်ပြင်သမား	ဆံသဆရာ	ရေပိုက်သမား
---------------	---------------------------	--------------	-------------	--------	-------------

စာပိုဒ်ကို ဖတ်ပါ။

- ရီပါ။ ။အာလောမ် ဆံပင်ညှပ်ခဲ့တာလား။
- အာလောမ်။ ။ဟုတ်တယ် ရီပါ။ ဆံပင်ညှပ်ဆိုင်က ဆံသဆရာဆီ ညှပ်ခဲ့တာပါ။
- ရီပါ။ ။ဆံသဆရာအမျိုးအစား များစွာရှိသလား။
- အာလောမ်။ ။ဟုတ်တယ်။ ရွေ့လျားဆံသဆရာနဲ့ ဆံပင်ညှပ်ဆိုင်က ဆံသဆရာရှိတယ်။ ဆံသဆရာအမျိုးအစား များစွာရှိပါတယ်။

မေးခွန်းများကို ဖြေပါ။

ဆံသဆရာအမျိုးအစား ဘယ်နှစ်မျိုးရှိသလဲ။

ရှိပါသည်။

Solve the problems.

$$\begin{array}{r} 4234 \\ +1451 \\ \hline \end{array}$$

$$\begin{array}{r} 13622 \\ +74371 \\ \hline \end{array}$$

$$\begin{array}{r} 3560 \\ +1327 \\ \hline \end{array}$$

$$\begin{array}{r} 21515 \\ +48243 \\ \hline \end{array}$$

$$\begin{array}{r} 3355 \\ +6266 \\ \hline \end{array}$$

$$\begin{array}{r} 46959 \\ +13057 \\ \hline \end{array}$$

$$\begin{array}{r} 2793 \\ +5879 \\ \hline \end{array}$$

$$\begin{array}{r} 26794 \\ +32608 \\ \hline \end{array}$$

$$\begin{array}{r} 74160 \\ +21520 \\ \hline \end{array}$$

$$\begin{array}{r} 41451 \\ +14236 \\ \hline \end{array}$$

$$\begin{array}{r} 35682 \\ +44105 \\ \hline \end{array}$$


$$\begin{array}{r} 31247 \\ +23502 \\ \hline \end{array}$$

The barber cut 32 people's hair on Monday and 27 people's hair on Tuesday. How many people's hair did he cut on Monday and Tuesday?

Lesson 8

A Barber's Tools


Read and discuss the sentence.



Barbers use **scissors**, **combs** and **razors**.

scissors	combs	razors
----------	-------	--------

Name the pictures and match them with the words.



health worker	barber	carpenter	scissors	razor	comb
---------------	--------	-----------	----------	-------	------

Read and write the words.

barbers	<i>barbers</i>	
scissors	<i>scissors</i>	
combs	<i>combs</i>	
razors	<i>razors</i>	

cut	cut	
hair	hair	
shave	shave	
need	need	
skills	skills	
training	training	

Read the passage.

Ripa: **Hello, Alom! What do barbers do?**

Alom: **Hello, Ripa! Barbers cut hair and give shaves.**

Ripa: **What do barbers need to cut hair?**

Alom: **Barbers need scissors and combs to cut hair.**

Ripa: **What do barbers need to give shaves?**

Alom: **Barbers need razors to give shaves.**

Ripa: **How does a barber get skills?**

Alom: **A barber gets skills from training.**

Answer the questions.

What do barbers do?

What do barbers need to cut hair?

What do barbers need to give shaves?

How does a barber get skills?

Have you ever been to the barbershop?

ဝါကျကိုဖတ်ပြီး ဆွေးနွေးပါ။

ဆံသဆရာတွင် ကတ်ကြေး၊ ဘီးနှင့် သင်တုန်းဓားများ ရှိရမည်။

ရမည်	ကတ်ကြေး	ဘီး	သင်တုန်းဓား
------	---------	-----	-------------

ပုံများ၏ အမည်ကို ရွတ်ဆိုပြီး စကားလုံးများနှင့် တွဲဖက်ပါ။



ဆံသဆရာ	လက်သမား	ကျန်းမာရေးဝန်ထမ်း	ကတ်ကြေး	သင်တုန်းဓား	ဘီး
--------	---------	-------------------	---------	-------------	-----

စကားလုံးများကို ဖတ်ပြီးရေးပါ။

ဆံသဆရာ		လိုအပ်သည်	
ညှပ်သည်		ကတ်ကြေး	
ဆံပင်		ဘီး	
ရိတ်သည်		သင်တုန်းဓား	

စာပိုဒ်ကို ဖတ်ပါ။

ရီပါ။ ။မင်္ဂလာပါ အာလောမံ။ ဆံသဆရာက ဘာလုပ်ပါသလဲ။

အာလောမံ။ ။မင်္ဂလာပါ ရီပါ။ ဆံသဆရာက ဆံပင်ညှပ်တာ ဆံပင်ရိတ်တာတွေလုပ်ပါတယ်။

ရီပါ။ ။ဆံသဆရာက ဆံပင်ညှပ်ဖို့နဲ့ ရိတ်ဖို့ဘာလိုအပ်ပါသလဲ။

အာလောမံ။ ။ဆံသဆရာက ဆံပင်ညှပ်ဖို့ ကတ်ကြေးနဲ့ ဘီး၊ ဆံပင်ရိတ်ဖို့ သင်တန်းစား လိုအပ်ပါတယ်။

မေးခွန်းများကို ဖြေပါ။

ဆံသဆရာသည် ဘာလုပ်သနည်း။

Solve the problems.

$$\begin{array}{r} 42234 \\ +11451 \\ \hline \end{array}$$

$$\begin{array}{r} 13472 \\ +66327 \\ \hline \end{array}$$

$$\begin{array}{r} 35608 \\ +13271 \\ \hline \end{array}$$

$$\begin{array}{r} 21646 \\ +48243 \\ \hline \end{array}$$

$$\begin{array}{r} 55 \\ +66 \\ \hline \end{array}$$

$$\begin{array}{r} 45 \\ +57 \\ \hline \end{array}$$

$$\begin{array}{r} 79 \\ +87 \\ \hline \end{array}$$

$$\begin{array}{r} 79 \\ +32 \\ \hline \end{array}$$

$$\begin{array}{r} 67158 \\ +21520 \\ \hline \end{array}$$

$$\begin{array}{r} 414513 \\ +142362 \\ \hline \end{array}$$

$$\begin{array}{r} 14692 \\ +45107 \\ \hline \end{array}$$

$$\begin{array}{r} 121247 \\ +453502 \\ \hline \end{array}$$

Siraz went to the market. He bought 130 bananas, 14 papayas and 22 apples. How many fruits did he buy?

Lesson 9

A Barber's Story

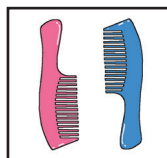
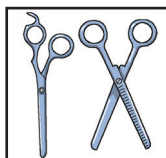

Read and discuss the sentence.



Mizan is a **mobile barber**.

mobile	barber
--------	--------

Name the pictures and match them with the words.



scissors	razors	craftsperson	barber	tailor	combs
----------	--------	--------------	--------	--------	-------

Read and write the words.

mobile	mobile	
barbershop	barbershop	
markets	markets	

people	people	
training	training	
skills	skills	
learned	learned	
hairstyles	hairstyles	
about	about	
trade	trade	

Read the passage.

Mizan is a mobile barber.

Mizan has no barbershop.

Mizan goes to different markets.

People did not go to Mizan.

Then Mizan got training and learned new skills.

Mizan learned about new hairstyles.

Now Mizan's trade is doing well!

Answer the questions.

What type of barber is Mizan?

_____.

Does Mizan have a barbershop?

No. _____.

Where does Mizan go?

What did Mizan learn about?

How is Mizan's trade doing now?

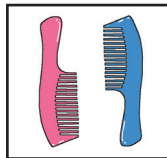
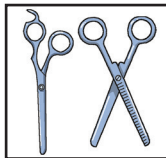
ဝါကျကိုဖတ်ပြီး ဆွေးနွေးပါ။

မိဇာန်သည် ရွှေ့လျားဆံသဆရာဖြစ်သည်။

ရွှေ့လျား

ဆံသဆရာ

ပုံများ၏ အမည်ကို ရွတ်ဆိုပြီး စကားလုံးများနှင့် တွဲဖက်ပါ။



ကတ်ကြေး	သင်တန်းစား	လက်မှုပညာရှင်	ဆံသဆရာ	ဘီးများ	စက်ချုပ်သမား
---------	------------	---------------	--------	---------	--------------

စကားလုံးများကို ဖတ်ပြီးရေးပါ။

ရွှေ့လျား		သင်ယူခဲ့သည်	
လူများ		ဆံပင်ပုံစံများ	
ကျွမ်းကျင်သင်တန်း		လုပ်ငန်း	

စာပိုဒ်ကို ဖတ်ပါ။

မိဇန်သည် ရွှေ့လျားဆံသဆရာဖြစ်သည်။ မိဇန်မှာ ဆံပင်ညှပ်ဆိုင် မရှိပါ။ လူတွေက မိဇန်ထံ မလာကြပေ။ သို့နှင့် မိဇန်သည် ကျွမ်းကျင်သင်တန်းတက်ကာ ဆံပင်ပုံစံ အသစ်များကို သင်ယူခဲ့သည်။ ယခု မိဇန်လုပ်ငန်းသည် ပြန်လည်ကောင်းမွန်လာပြီ ဖြစ်သည်။

မေးခွန်းများကို ဖြေပါ။

မိဇန်က ဘာတွေကို သင်ယူခဲ့သလဲ။

Solve the problems.


$\begin{array}{r} 42234 \\ +11451 \\ \hline \end{array}$	$\begin{array}{r} 13472 \\ +66327 \\ \hline \end{array}$	$\begin{array}{r} 35608 \\ +13271 \\ \hline \end{array}$	$\begin{array}{r} 215646 \\ +484243 \\ \hline \end{array}$
$\begin{array}{r} 67158 \\ +29467 \\ \hline \end{array}$	$\begin{array}{r} 485687 \\ -258248 \\ \hline \end{array}$	$\begin{array}{r} 14692 \\ +45958 \\ \hline \end{array}$	$\begin{array}{r} 258498 \\ +454626 \\ \hline \end{array}$
$\begin{array}{r} 691257 \\ +231967 \\ \hline \end{array}$	$\begin{array}{r} 312465 \\ +457224 \\ \hline \end{array}$	$\begin{array}{r} 472979 \\ +258248 \\ \hline \end{array}$	$\begin{array}{r} 612057 \\ +126941 \\ \hline \end{array}$

Mizan is a mobile barber. In January he cut 12 people's hair. In February he cut 23 people's hair and he got training to learn new skills. In March, he cut hair for 54 people. How many people's hair did Mizan cut in three months?

Lesson 10

Review


Read and discuss the sentence.



Mizan **started** a **new** **barbershop**.

started	new	barbershop
----------------	------------	-------------------

Name the pictures and match them with the words.



carpenter	health worker	barber	mason	electrician	food processor
-----------	---------------	--------	-------	-------------	----------------

Read and write the words.

Sunday	Sunday	
Monday	Monday	
Tuesday	Tuesday	
Wednesday	Wednesday	
Thursday	Thursday	
Friday	Friday	
Saturday	Saturday	

January	January	
February	February	
March	March	
April	April	
May	May	
June	June	
July	July	
August	August	
September	September	
October	October	
November	November	
December	December	

mirror	mirror	
scissors	scissors	
combs	combs	
razors	razors	
hairstyles	hairstyles	

Read the passage.

Mizan was a mobile barber.
 Now Mizan has a barbershop in the market.
 Mizan has a mirror, scissors, combs and razors in his shop.
 Mizan cuts hair with different hairstyles.
 People want to come to Mizan's shop.
 Mizan's trade is doing well.

Answer the questions.

Does Mizan have a barbershop in the market?

Yes. _____.

What does Mizan have in his barbershop?
_____.

Does Mizan cut hair with different hairstyles?
Yes. _____.

Do people want to come to Mizan's shop?
Yes. _____.


How is Mizan's trade doing now?
_____.

ဝါကျကိုဖတ်ပြီး ဆွေးနွေးပါ။

မီဇန်သည် ဆံပင်ညှပ်ဆိုင်အသစ်ကို စတင်လိုက်သည်။

စတင်	အသစ်	ဆံပင်ညှပ်ဆိုင်
------	------	----------------

ပုံများ၏ အမည်ကို ရွတ်ဆိုပြီး စကားလုံးများနှင့် တွဲဖက်ပါ။



လက်သမား	ကျန်းမာရေး ဝန်ထမ်း	စက်ပြင် ဆရာ	ပန်းရံ သမား	လျှပ်စစ်သမား	အစားအစာ ထုပ်ပိုးပြင်ဆင်သူ
---------	--------------------	-------------	-------------	--------------	---------------------------

စကားလုံးများကို ဖတ်ပြီးရေးပါ။

တနင်္ဂနွေ		ကြာသပတေး	
တနင်္လာ		သောကြာ	
အင်္ဂါ		စနေ	
ဗုဒ္ဓဟူး			

ဇန်နဝါရီ		ဇူလိုင်	
ဖေဖော်ဝါရီ		ဩဂုတ်	
မတ်		စက်တင်ဘာ	
ဧပြီ		အောက်တိုဘာ	
မေ		နိုဝင်ဘာ	
ဇွန်		ဒီဇင်ဘာ	
မှန်		သင်တန်းစား	
ကတ်ကြေး		ဆံပင်ပုံစံများ	
ဘီး		ဆံပင်ညှပ်ဆိုင်	

စာပိုဒ်ကို ဖတ်ပါ။

ဈေးထဲတွင် မိဇန်၏ ဆံပင်ညှပ်ဆိုင်ရှိသည်။
 မိဇန်၏ဆိုင်တွင် မှန်တစ်ချပ်၊ ကတ်ကြေးများ၊ ဘီးများနှင့် သင်တန်းစားများ ရှိသည်။။
 မိဇန်က ဆံပင်ပုံစံအမျိုးမျိုးညှပ်ပေးသည်။
 လူများက မိဇန်ဆိုင်ကို လာချင်ကြသည်။
 မိဇန်၏လုပ်ငန်း ပိုမိုကောင်းမွန်လာသည်။

မေးခွန်းများကို ဖြေပါ။

မိဇန်က ဘာတွေကို သင်ယူခဲ့သလဲ။

Solve the problems.

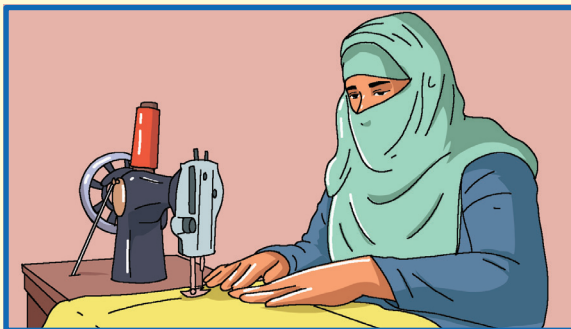
$\begin{array}{r} 4234 \\ +1151 \\ \hline \end{array}$	$\begin{array}{r} 236 \\ +149 \\ \hline \end{array}$	$\begin{array}{r} 423 \\ +564 \\ \hline \end{array}$	$\begin{array}{r} 3568 \\ +1327 \\ \hline \end{array}$
$\begin{array}{r} 69958 \\ +19467 \\ \hline \end{array}$	$\begin{array}{r} 6344 \\ +2655 \\ \hline \end{array}$	$\begin{array}{r} 6836 \\ +1557 \\ \hline \end{array}$	$\begin{array}{r} 4692 \\ +5958 \\ \hline \end{array}$
$\begin{array}{r} 691257 \\ +231967 \\ \hline \end{array}$	$\begin{array}{r} 31265 \\ +47224 \\ \hline \end{array}$	$\begin{array}{r} 47979 \\ +25824 \\ \hline \end{array}$	$\begin{array}{r} 61207 \\ +12694 \\ \hline \end{array}$

Mizan's barbershop is doing well. In October he cut 142 people's hair. In November he cut 214 people's hair. In December he cut 353 people's hair. How many people's hair did he cut in three months?

Lesson 11

A Tailor's Skills

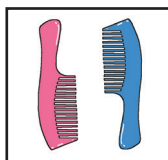
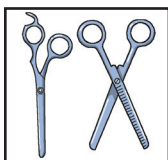


Read and discuss the sentence.



A tailor needs **sewing skills**.

sewing	skills
--------	--------

Name the pictures and match them with the words.



combs	razors	plumber	tailor	scissors	mechanic
-------	--------	---------	--------	----------	----------

Read and write the words.

sewing	sewing	
skills	skills	
different	different	
types	types	
learn	learn	

straight	straight	
zigzag	zigzag	
easy	easy	
harder	harder	
machines	machines	

Read the passage.

A tailor needs sewing skills.

There are different types of sewing.

Tailors learn to do straight sewing and zigzag sewing.

Straight sewing is easy.

Zigzag sewing is harder.

Tailors use sewing machines.

Tailors should be good at using sewing machines.

Answer the questions.

What skills does a tailor need?

_____.

What different types of sewing are there?

There are _____.

Is straight sewing easy?

Yes. _____.

What do tailors learn?

_____.

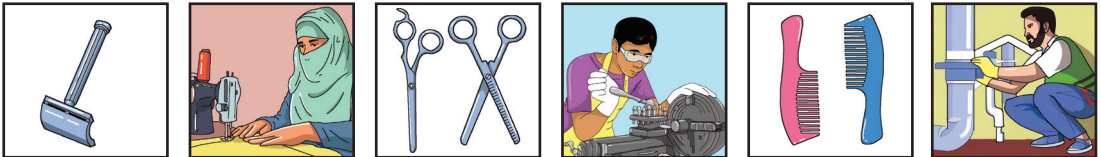
What should tailors be good at?

ဝါကျကိုဖတ်ပြီး ဆွေးနွေးပါ။

စက်ချုပ်သမားသည် စက်ချုပ်ကျွမ်းကျင်ရန် လိုအပ်သည်။

စက်ချုပ်

ပုံများ၏ အမည်ကို ရွတ်ဆိုပြီး စကားလုံးများနှင့် တွဲဖက်ပါ။



ဘီးများ	သင်တုန်းဓား	ရေပိုက်သမား	စက်ချုပ်သမား	ကတ်ကြေး	စက်ပြင်သမား
---------	-------------	-------------	--------------	---------	-------------

စကားလုံးများကို ဖတ်ပြီးရေးပါ။

စက်ချုပ်ခြင်း		ချိတ်လိုင်း	
ကျွမ်းကျင်မှုများ		လွယ်ကူသည်	
သင်ယူသည်		ပိုမိုခက်ခဲသည်	
အဖြောင့်		ချုပ်ရိုး	

စာပိုဒ်ကို ဖတ်ပါ။

စက်ချုပ်သမားက စက်ချုပ်ကျွမ်းကျင်ရန် လိုအပ်သည်။

စက်ချုပ်သမားက ချုပ်ရိုးအဖြောင့်နှင့် ချိတ်လိုင်းချုပ်ရိုးများ ချုပ်တတ်အောင် သင်ယူရသည်။

ချုပ်ရိုးအဖြောင့်သည် လွယ်ကူသည်။

ချိတ်လိုင်းချုပ်ရိုးသည် ပိုမိုခက်ခဲသည်။

မေးခွန်းများကို ဖြေပါ။

စက်ချုပ်သမားက မည်သည်ကို ကျွမ်းကျင်ရန် လိုအပ်သနည်း။

Solve the problems.

$$\begin{array}{r} 95 \\ -13 \\ \hline \end{array}$$

$$\begin{array}{r} 67 \\ -25 \\ \hline \end{array}$$

$$\begin{array}{r} 76 \\ -34 \\ \hline \end{array}$$

$$\begin{array}{r} 98 \\ -58 \\ \hline \end{array}$$

$$\begin{array}{r} 976 \\ -134 \\ \hline \end{array}$$

$$\begin{array}{r} 437 \\ -225 \\ \hline \end{array}$$

$$\begin{array}{r} 868 \\ -712 \\ \hline \end{array}$$

$$\begin{array}{r} 794 \\ -361 \\ \hline \end{array}$$

$$\begin{array}{r} 84 \\ -33 \\ \hline \end{array}$$

$$\begin{array}{r} 756 \\ -132 \\ \hline \end{array}$$

$$\begin{array}{r} 369 \\ -214 \\ \hline \end{array}$$

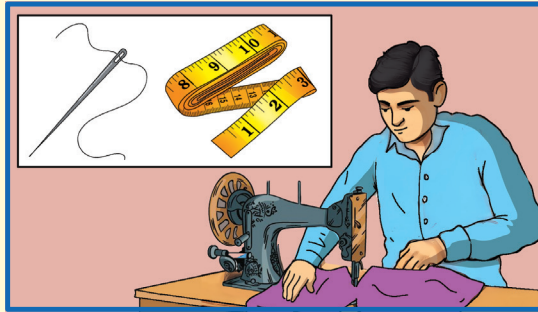
$$\begin{array}{r} 67 \\ -22 \\ \hline \end{array}$$

Yasmin is a tailor. She sewed 48 shirts in March and April. In March she sewed 33 shirts. How many shirts did she sew in April?

Lesson 12

A Tailor's Tools

Read and discuss the sentence.



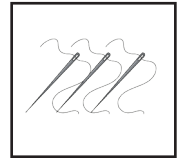
Tailors use **needles**, **measuring tapes** and **sewing machines**.

needles

measuring tapes

sewing machines

Name the pictures and match them with the words.



tailor

craftsperson

barber

needle

sewing
machine

measuring
tape

Read and write the words.

tailor	tailor	
needles	needles	
measuring	measuring	
tapes	tapes	
sewing	sewing	

machines	<i>machines</i>	
equipment	<i>equipment</i>	
clothes	<i>clothes</i>	
measure	<i>measure</i>	
scissors	<i>scissors</i>	
sew	<i>sew</i>	
dresses	<i>dresses</i>	

Read the passage.

Zubair: **Hello, Janu! What do you do?**

Janu: **Hello, Zubair! I am a tailor.**

Zubair: **What tools and equipment do you use?**

Janu: **I use needles, measuring tapes and sewing machines.**

Zubair: **What can you make?**

Janu: **I can make different clothes for men and women.**

Zubair: **How do you make different clothes?**

Janu: **First I measure the clothes with a measuring tape.
I cut the clothes with scissors.
I use a needle to sew the clothes.
I also sew the clothes with a sewing machine.**

Answer the questions for Janu.

What do you do?

Janu: _____.

What can you make?

Janu: _____.

What do you do first?

Janu: _____.

What do you cut the cloth with?


Janu: _____.

ဝါကျကိုဖတ်ပြီး ဆွေးနွေးပါ။

စက်ချုပ်ဆရာသည် အပ်များ၊ ပေကြိုးနှင့် အပ်ချုပ်စက်များကို အသုံးပြုပါသည်။

အပ်များ	ပေကြိုး	အပ်ချုပ်စက်များ
---------	---------	-----------------

ပုံများ၏ အမည်ကို ရွတ်ဆိုပြီး စကားလုံးများနှင့် တွဲဖက်ပါ။



စက်ချုပ်သမား	လက်မှုပညာရှင်	ဆံသဆရာ	အပ်	အပ်ချုပ်စက်	ပေကြိုး
--------------	---------------	--------	-----	-------------	---------

စကားလုံးများကို ဖတ်ပြီးရေးပါ။

စက်ချုပ်သမား		အပ်ချုပ်စက်	
အပ်		ပစ္စည်း	
ပေကြိုး		ကတ်ကြေး	

စာပိုဒ်ကို ဖတ်ပါ။

- ဇူဘိုင်ရ်။ ။မင်္ဂလာပါ ဂျာနု။ ခင်များက ဘာအလုပ်လုပ်သလဲ။
- ဂျာနု။ ။မင်္ဂလာပါ ဇူဘိုင်ရ်။ ကျွန်မက စက်ချုပ်ဆရာပါ။
- ဇူဘိုင်ရ်။ ။စက်ချုပ်ဆရာက ဘာပစ္စည်းကိရိယာတွေအသုံးပြုသလဲ။
- ဂျာနု။ ။အဝတ်စ၊ အပ်၊ ပေကြိုးနဲ့ အပ်ချုပ်စက်ကို အသုံးပြုပါတယ်။

မေးခွန်းများကို ဖြေပါ။

စက်ချုပ်သမားက မည်သည်ကို ကျွမ်းကျင်ရန် လိုအပ်သနည်း။

Solve the problems.


$\begin{array}{r} 69 \\ - 52 \\ \hline \end{array}$	$\begin{array}{r} 77 \\ - 34 \\ \hline \end{array}$	$\begin{array}{r} 56 \\ - 31 \\ \hline \end{array}$	$\begin{array}{r} 99 \\ - 63 \\ \hline \end{array}$
$\begin{array}{r} 566 \\ - 144 \\ \hline \end{array}$	$\begin{array}{r} 487 \\ - 225 \\ \hline \end{array}$	$\begin{array}{r} 845 \\ - 612 \\ \hline \end{array}$	$\begin{array}{r} 796 \\ - 561 \\ \hline \end{array}$
$\begin{array}{r} 74 \\ - 21 \\ \hline \end{array}$	$\begin{array}{r} 456 \\ - 132 \\ \hline \end{array}$	$\begin{array}{r} 728 \\ - 214 \\ \hline \end{array}$	$\begin{array}{r} 54 \\ - 33 \\ \hline \end{array}$

Janu is a tailor. She made 42 dresses. People want 68 dresses from Janu. How many more dresses does Janu need to make?

Lesson 13

A Tailor's Story

Read and discuss the sentence.

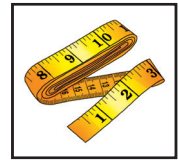
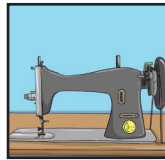

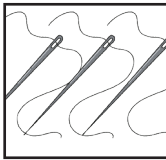


Hotiza is a **master tailor**.

master

tailor

Name the pictures and match them with the words.



sewing
machine

health
worker

measuring
tape

carpenter

needle

tailor

Read and write the words.

master	master	
tailor	tailor	
sewing	sewing	
measures	measures	

scissors	scissors	
men	men	
women	women	
fit	fit	
dresses	dresses	
people	people	

Read the passage.

Hotiza is a master tailor.

Hotiza has many different sewing skills.

Hotiza measures the cloth with a measuring tape.

Hotiza cuts the cloth with scissors.

Hotiza sews the cloth with a sewing machine.

Hotiza makes clothes for men and women.

Clothes made by Hotiza fit well.

Hotiza is a master tailor.

Answer the questions.

Does Hotiza have many different sewing skills?

Yes. _____.

What does Hotiza measure the cloth with?

_____.

What does Hotiza cut the cloth with?

_____.

What does Hotiza sew the cloth with?

Whom does Hotiza make clothes for?

ဝါကျကိုဖတ်ပြီး ဆွေးနွေးပါ။

ဟောတီဇားသည် ကျွမ်းကျင်စက်ချုပ်သမားတစ်ဦးဖြစ်ပါသည်။

ကျွမ်းကျင်	စက်ချုပ်သမား
------------	--------------

ပုံများ၏ အမည်ကို ရွတ်ဆိုပြီး စကားလုံးများနှင့် တွဲဖက်ပါ။



အပ်ချုပ်စက်	ကျန်းမာရေးဝန်ထမ်း	ပေကြိုး	လက်သမား	အပ်	စက်ချုပ်သမား
-------------	-------------------	---------	---------	-----	--------------

စကားလုံးများကို ဖတ်ပြီးရေးပါ။

ကျွမ်းကျင်		အမျိုးသား	
အပ်ချုပ်စက်		အမျိုးသမီး	
တိုင်းတာသည်		ပေကြိုး	
ကတ်ကြေး		အဝတ်အထည်များ	

စာပိုဒ်ကို ဖတ်ပါ။

ဟောတီဇားသည် ကျွမ်းကျင်စက်ချုပ်ဆရာဖြစ်သည်။

ဟောတီဇားသည် အမျိုးမျိုးသော စက်ချုပ်နည်းပညာများ ကျွမ်းကျင်သည်။

ဟောတီဇားသည် ပိတ်စကို ပေကြိုးနှင့် တိုင်းတာကာ ကတ်ကြေးဖြင့် ဖြတ်သည်။

ဟောတီဇားသည် အမျိုးသား အမျိုးသမီး အဝတ်အထည်များချုပ်သည်။

မေးခွန်းများကို ဖြေပါ။

ဟောတီဇားသည် မည်သည့် အဝတ်အထည်များ ချုပ်လုပ်သနည်း။

Solve the problems.

$$\begin{array}{r} 614 \\ - 525 \\ \hline \end{array}$$

$$\begin{array}{r} 7752 \\ - 3421 \\ \hline \end{array}$$

$$\begin{array}{r} 5276 \\ - 3518 \\ \hline \end{array}$$

$$\begin{array}{r} 959 \\ - 632 \\ \hline \end{array}$$

$$\begin{array}{r} 8747 \\ - 4315 \\ \hline \end{array}$$

$$\begin{array}{r} 6348 \\ - 2116 \\ \hline \end{array}$$

$$\begin{array}{r} 4896 \\ - 2672 \\ \hline \end{array}$$

$$\begin{array}{r} 9735 \\ - 3232 \\ \hline \end{array}$$

$$\begin{array}{r} 9164 \\ - 6276 \\ \hline \end{array}$$

$$\begin{array}{r} 4212 \\ - 2983 \\ \hline \end{array}$$

$$\begin{array}{r} 5324 \\ - 1457 \\ \hline \end{array}$$

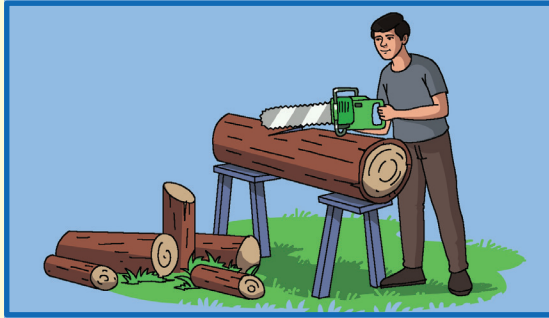
$$\begin{array}{r} 6971 \\ - 3985 \\ \hline \end{array}$$

Hotiza made 356 dresses. She sold 135 dresses to different people. How many dresses does she have now?

Lesson 14

A Carpenter's Skills

Read and discuss the sentence.

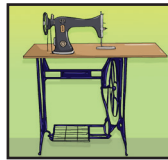
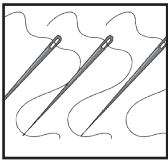


Hamid cuts **wood** in different **sizes**.

wood

sizes

Name the pictures and match them with the words.



needle

sewing
machine

carpenter

mason

measuring
tape

plumber

Read and write the words.

wood	wood	
sizes	sizes	
need	need	
wooden	wooden	
table	table	
kind	kind	
small	small	

son	son	
big	big	
take	take	

Read the passage.

- Tosmin: **Hello, Anos!
I need a wooden table.**
- Anos: **Hello, Tosmin!
What kind of table do you need?**
- Tosmin: **I need a small table for my son.**
- Anos: **Do you want this table that I made?**
- Tosmin: **No. I do not want this table because it is too big.**
- Anos: **Can I take a day to make a small table for you?**
- Tosmin: **Yes. You can take a day to make a small table for me.**

Answer the questions For Tosmin

What do you need?

Tosmin: _____.

What kind of table do you need?

Tosmin: _____.

Do you want this table that I made?

Tosmin: No. _____.

Can I take a day to make a small table for you?

Tosmin: Yes. _____.

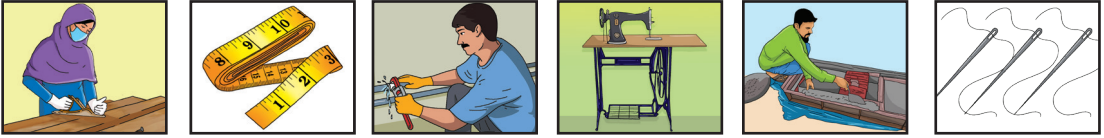
ဝါကျကိုဖတ်ပြီး ဆွေးနွေးပါ။

ဟမ်ဒ် သစ်သားများကို အရွယ်အစားအမျိုးမျိုးဖြတ်သည်။

သစ်သား

အရွယ်အစား

ပုံများ၏ အမည်ကို ရွတ်ဆိုပြီး စကားလုံးများနှင့် တွဲဖက်ပါ။



အပ်	အပ်ချုပ်စက်	လက်သမား	ပန်းရံဆရာ	ပေကြိုး	ရေပိုက်သမား
-----	-------------	---------	-----------	---------	-------------

စကားလုံးများကို ဖတ်ပြီးရေးပါ။

သစ်သား		မျိုး	
အရွယ်အစားများ		အသေး	
လိုချင်လို့ပါ		အကြီး	
အသားစားပွဲ		သား	

စာပိုဒ်ကို ဖတ်ပါ။

အာနော့စ်။ ။မင်္ဂလာပါ တော့စ်မိန်။ အသားစားပွဲတစ်လုံးလောက် လိုချင် လို့ပါ။
 တော့စ်မိန်။ ။မင်္ဂလာပါ အာနော့စ်။ ဘယ်လိုစားပွဲမျိုး လိုချင်တာလဲ။
 အာနော့စ်။ ။ကျွန်မရဲ့သားအတွက် စားပွဲအသေးတစ်လုံး လိုချင်တာပါ။

မေးခွန်းများကို ဖြေပါ။

အာနော့စ်သည် မည်သည်ကို လိုချင်ပါသနည်း။

Solve the problems.

$\begin{array}{r} 826 \\ - 568 \\ \hline \end{array}$	$\begin{array}{r} 6852 \\ - 3421 \\ \hline \end{array}$	$\begin{array}{r} 5387 \\ - 3519 \\ \hline \end{array}$	$\begin{array}{r} 847 \\ - 423 \\ \hline \end{array}$
$\begin{array}{r} 7539 \\ - 4132 \\ \hline \end{array}$	$\begin{array}{r} 6529 \\ - 2116 \\ \hline \end{array}$	$\begin{array}{r} 4983 \\ - 1232 \\ \hline \end{array}$	$\begin{array}{r} 5778 \\ - 2153 \\ \hline \end{array}$
$\begin{array}{r} 8135 \\ - 6276 \\ \hline \end{array}$	$\begin{array}{r} 4212 \\ - 1795 \\ \hline \end{array}$	$\begin{array}{r} 6142 \\ - 1457 \\ \hline \end{array}$	$\begin{array}{r} 7233 \\ - 3985 \\ \hline \end{array}$

Anos is a carpenter. He made 647 wooden tables last year and this year. He made 226 wooden tables this year. How many wooden tables did he make last year?

Lesson 15

A Carpenter's Tools

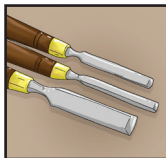
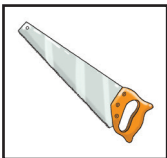
Read and discuss the sentence.



A carpenter uses a **hammer**, a **saw** and a **chisel**.

hammer	saw	chisel
--------	-----	--------

Name the pictures and match them with the words.



carpenter	food processor	electrician	saw	chisel	hammer
-----------	----------------	-------------	-----	--------	--------

Read and write the words.

hammer	hammer	
saw	saw	
chisel	chisel	
nice	nice	
bench	bench	

wood	wood	
join	join	
pieces	pieces	
nails	nails	

Read the passage.

Musa: **That is a nice bench!**

Fatema: **Thank you. I made it yesterday.**

Musa: **What did you use to cut the wood?**

Fatema: **I used a saw and a chisel to cut the wood.**

Musa: **What did you use to join the pieces of wood?**

Fatema: **I used nails to join the pieces of wood.**

Musa: **What did you use to hammer the nails?**

Fatema: **I used a hammer to hammer the nails.**

Answer the questions.

What did Fatema make?

Fatema made _____.

When did Fatema make the bench?

_____.

What did Fatema use to cut the wood?

_____.

What did Fatema use to join the pieces of wood?
_____.

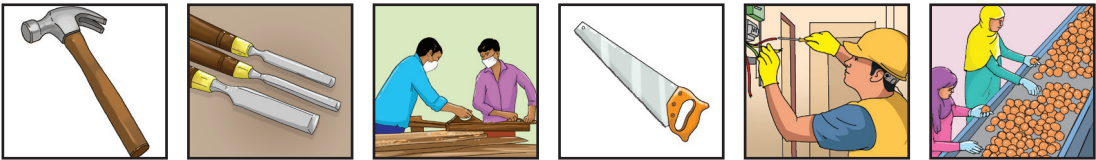
What did Fatema use to hammer the nails?
_____.

ဝါကျကိုဖတ်ပြီး ဆွေးနွေးပါ။

လက်သမားတစ်ဦးသည် တူ၊ လွှနှင့် ဆောက်ကို အသုံးပြုသည်။

တူ	လွှ	ဆောက်
----	-----	-------

ပုံများ၏ အမည်ကို ရွတ်ဆိုပြီး စကားလုံးများနှင့် တွဲဖက်ပါ။



လက်သမား	အစားအစာ ထုပ်ပိုးပြင်ဆင်သူ	လျှပ်စစ် သမား	ဆောက်	လွှ	တူ
---------	---------------------------	---------------	-------	-----	----

စကားလုံးများကို ဖတ်ပြီးရေးပါ။

တူ		ခုံတန်း	
လွှ		သစ်သား	
ဆောက်		သံများ	
တော်တော်ကောင်း		လုပ်သည်/တာ	

စာပိုဒ်ကို ဖတ်ပါ။

- မုဆာ။ ။တော်တော်ကောင်းတဲ့ ခုံတန်းပဲ။
- ဖာတေမာ။ ။ကျေးဇူးပါ။ ကျွန်မ မနေ့က လုပ်ထားတာပါ။
- မုဆာ။ ။ဒီခုံတန်းကို ဘာတွေအသုံးပြုပြီး လုပ်တာလဲ။
- ဖာတေမာ။ ။ခုံတန်းကို လွှ၊ တူ၊ သံတွေနဲ့ ဆောက်ကို အသုံးပြုပြီး လုပ်တာပါ။

မေးခွန်းများကို ဖြေပါ။

ဖာတေမာသည် ခုံတန်းကို ပြုလုပ်ရန် မည်သည်တို့ကို အသုံးပြုခဲ့သနည်း။

Solve the problems.

$\begin{array}{r} 85634 \\ -52212 \\ \hline \end{array}$	$\begin{array}{r} 6439 \\ -3421 \\ \hline \end{array}$	$\begin{array}{r} 5389 \\ -3217 \\ \hline \end{array}$	$\begin{array}{r} 67347 \\ -42325 \\ \hline \end{array}$
$\begin{array}{r} 72376 \\ -36589 \\ \hline \end{array}$	$\begin{array}{r} 52300 \\ -42347 \\ \hline \end{array}$	$\begin{array}{r} 62550 \\ -25760 \\ \hline \end{array}$	$\begin{array}{r} 47221 \\ -18429 \\ \hline \end{array}$
$\begin{array}{r} 9251 \\ -5626 \\ \hline \end{array}$	$\begin{array}{r} 42125 \\ -14859 \\ \hline \end{array}$	$\begin{array}{r} 65687 \\ -14572 \\ \hline \end{array}$	$\begin{array}{r} 7985 \\ -3233 \\ \hline \end{array}$

Fatema needs 227 pieces of wood to make benches. She now has 118 pieces of wood. How many more pieces of wood does Fatema need?

Lesson 16

A Carpenter's Story


Read and discuss the sentence.



Esa is a skilled carpenter.

skilled	carpenter
---------	-----------

Name the pictures and match them with the words.



tailor	saw	hammer	carpenter	mechanic	chisel
--------	-----	--------	-----------	----------	--------

Read and write the words.

skilled	skilled	
carpenter	carpenter	
doors	doors	
tables	tables	

cots	cots	
repairs	repairs	
poor	poor	
free	free	
kind	kind	
everyone	everyone	
likes	likes	

Read the passage.

Esa is a skilled carpenter.

Esa has many skills.

Esa makes wooden goods with a saw, a chisel and a hammer.

Esa makes wooden doors, tables, benches and cots.

Esa repairs wooden goods for the poor for free.

Esa is a kind carpenter.

Everyone likes Esa.

Answer the questions.

Is Esa a skilled carpenter?

Yes. _____.

Does Esa have many carpentry skills?

Yes. _____.

What does Esa make wooden goods with?

_____.

What wooden goods does Esa make?

_____.

Does Esa repair wooden goods for the poor for free?

Yes. _____.

Is Esa a kind carpenter?

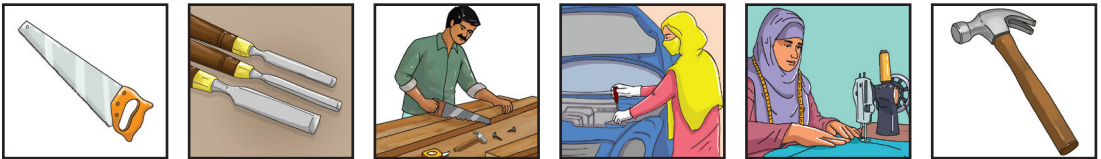
Yes. _____.

ဝါကျကိုဖတ်ပြီး ဆွေးနွေးပါ။

အိဆာသည် ကျွမ်းကျင်သော လက်သမားဖြစ်သည်။

ကျွမ်းကျင်သော	လက်သမား
---------------	---------

ပုံများ၏ အမည်ကို ရွတ်ဆိုပြီး စကားလုံးများနှင့် တွဲဖက်ပါ။



ဆောက်	လွှ	တူ	လက်သမား	စက်ချုပ်သမား	စက်ပြင်သမား
-------	-----	----	---------	--------------	-------------

စကားလုံးများကို ဖတ်ပြီးရေးပါ။

ကျွမ်းကျင်သော		ပြုပြင်သည်	
လက်သမား		ဆင်းရဲသော	
တံခါးများ		အခမဲ့	
စားပွဲ		ကြင်နာတတ်သော	
ကုတင်		ပရိုဘောဂ	

စာပိုဒ်ကို ဖတ်ပါ။

အီဆာသည် ကျွမ်းကျင်သော လက်သမားတစ်ဦးဖြစ်သည်။

အီဆာသည် လွှ၊ သံ၊ တူနှင့် ဆောက်တို့ဖြင့် ပရိဘောဂများကို ပြုလုပ်သည်။

အီဆာသည် သစ်သားတံခါးများ၊ စားပွဲများ၊ ခုံတန်းများနှင့် ကုတင်များကို ပြုလုပ်သည်။

အီဆာသည် ဆင်းရဲသားများအတွက် ပရိဘောဂများကို အခမဲ့ပြုပြင်ပေးသည်။

အီဆာသည် ကြင်နာတတ်သော လက်သမားတစ်ဦးဖြစ်သည်။

မေးခွန်းများကို ဖြေပါ။

အီဆာသည် မည်သည့်ပစ္စည်းများကို ပြုလုပ်သနည်း။

Solve the problems.

$$\begin{array}{r} 51436 \\ - 26789 \\ \hline \end{array}$$

$$\begin{array}{r} 85972 \\ - 40653 \\ \hline \end{array}$$

$$\begin{array}{r} 71431 \\ - 33877 \\ \hline \end{array}$$

$$\begin{array}{r} 65302 \\ - 18749 \\ \hline \end{array}$$

$$\begin{array}{r} 76847 \\ - 56235 \\ \hline \end{array}$$

$$\begin{array}{r} 742500 \\ - 131400 \\ \hline \end{array}$$

$$\begin{array}{r} 693765 \\ - 362413 \\ \hline \end{array}$$

$$\begin{array}{r} 79685 \\ - 32334 \\ \hline \end{array}$$

$$\begin{array}{r} 73614 \\ - 56235 \\ \hline \end{array}$$

$$\begin{array}{r} 742512 \\ - 184267 \\ \hline \end{array}$$

$$\begin{array}{r} 586763 \\ - 215510 \\ \hline \end{array}$$

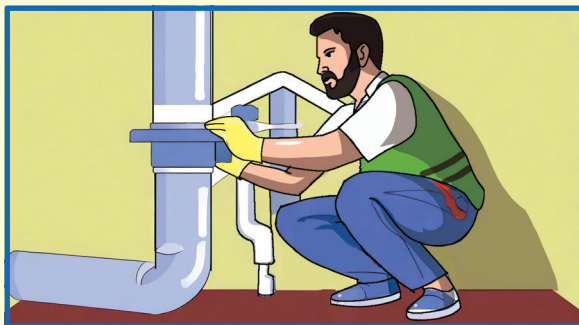
$$\begin{array}{r} 68323 \\ - 43256 \\ \hline \end{array}$$

Esa made 84 wooden goods from January to March. He made 32 wooden goods in January and 27 wooden goods in February. How many did he make in March?

Lesson 17

A Plumber's and a Pipefitter's Skills

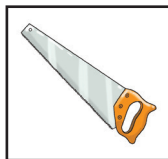
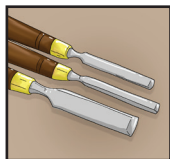
Read and discuss the sentence.



A **plumber** and a **pipefitter** have many of the same skills.

plumber	pipefitter
---------	------------

Name the pictures and match them with the words.



saw	plumber	chisel	barber	hammer	mason
-----	---------	--------	--------	--------	-------

Read and write the words.

plumber	plumber	
pipefitter	pipefitter	
many	many	
same	same	

trade	trade	
install	install	
water	water	
pipes	pipes	
gas	gas	
plumbing	plumbing	

Read the passage.

Idris: **What is your trade?**

Zainab: **I am a pipefitter.**

Idris: **What do you do?**

Zainab: **I install gas pipes and water pipes.
What is your trade?**

Idris: **I am a plumber.**

Zainab: **What do you do?**

Idris: **I install water pipes and all types of plumbing.
I also repair water pipes and plumbing.**

Answer the questions.

What is Zainab's trade?

Zainab is _____.

What does Zainab do?

Zainab installs _____.

What is Idris's trade?

Idris is _____.

What does Idris install?

_____.


What does Idris repair?

ဝါကျကိုဖတ်ပြီး ဆွေးနွေးပါ။

ရေပိုက်သမားနှင့် ပိုက်တပ်ဆင်သူများတွင် တူညီသော အရည်အချင်းများစွာရှိကြသည်။

ရေပိုက်သမား	ပိုက်တပ်ဆင်သူ
-------------	---------------

ပုံများ၏ အမည်ကို ရွတ်ဆိုပြီး စကားလုံးများနှင့် တွဲဖက်ပါ။



လွှ	ဆောက်	တူ	ဆံသဆရာ	ရေပိုက်သမား	ပန်းရံသမား
-----	-------	----	--------	-------------	------------

စကားလုံးများကို ဖတ်ပြီးရေးပါ။

ရေပိုက်သမား		တပ်ဆင်သည်	
ပိုက်တပ်ဆင်သူ		ရေပိုက်	
များစွာ		ဓာတ်ငွေ့	
တူညီသော		သွယ်တန်းခြင်း	
လုပ်ငန်း		ပိုက်လိုင်း	

စာပိုဒ်ကို ဖတ်ပါ။

အီဒီရိစ်။ ။ ကျွန်တော့်ရဲ့လုပ်ငန်းက ရေပိုက်ပြင်တာပါ။ ကျွန်တော်က ရေပိုက်တွေ၊ ပိုက်သွယ်တန်းခြင်းလုပ်ငန်းတွေမှာ တပ်ဆင်မှုတွေနဲ့ ပြုပြင်မှုတွေ လုပ်ရပါတယ်။ ခင်များကကော ဘာလုပ်ငန်းလုပ်ပါသလဲ။

ဇိုင်နော့စ်။ ။ ကျွန်မက ပိုက်တပ်ဆင်တဲ့လုပ်ငန်း လုပ်ပါတယ်။ ဓာတ်ငွေ့ ပိုက်လိုင်းတွေနဲ့ ရေပိုက်လိုင်းတွေ တပ်ဆင်ရပါတယ်။

မေးခွန်းများကို ဖြေပါ။

အီဒီရိစ်သည် မည်သည်တို့ကို ပြုပြင်သနည်း။

Solve the problems.

$$\begin{array}{r} 61897 \\ - 23564 \\ \hline \end{array}$$

$$\begin{array}{r} 859722 \\ - 406513 \\ \hline \end{array}$$

$$\begin{array}{r} 76844 \\ - 33021 \\ \hline \end{array}$$

$$\begin{array}{r} 695652 \\ - 182401 \\ \hline \end{array}$$

$$\begin{array}{r} 768473 \\ - 562352 \\ \hline \end{array}$$

$$\begin{array}{r} 742500 \\ - 131400 \\ \hline \end{array}$$

$$\begin{array}{r} 693765 \\ - 362413 \\ \hline \end{array}$$

$$\begin{array}{r} 496815 \\ - 323304 \\ \hline \end{array}$$

$$\begin{array}{r} 715514 \\ - 582675 \\ \hline \end{array}$$

$$\begin{array}{r} 642096 \\ - 184267 \\ \hline \end{array}$$

$$\begin{array}{r} 878342 \\ - 263958 \\ \hline \end{array}$$


$$\begin{array}{r} 687323 \\ - 432567 \\ \hline \end{array}$$

Zainab fits gas pipes and water pipes. She fitted 454 pipes in total last year. She fitted 179 gas pipes. How many water pipes did she fit last year?

Lesson 18

A Plumber's and a Pipefitter's Tools

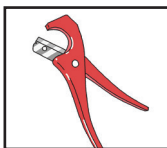
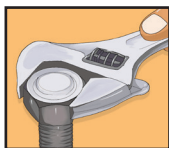
Read and discuss the sentence.



Plumbers and pipefitters use wrenches, pliers and pipe cutters.

wrenches	pliers	pipe cutters
----------	--------	--------------

Name the pictures and match them with the words.



electrician	plumber	carpenter	wrench	pipe cutter	pliers
-------------	---------	-----------	--------	-------------	--------

Read and write the words.

wrenches	wrenches	
pliers	pliers	
pipe cutters	pipe cutters	
install	install	
repair	repair	
gas	gas	
join	join	
welding	welding	
equipment	equipment	

Read the passage.

Plumbers and pipefitters both install and repair pipes.
 Plumbers and pipefitters use wrenches, pliers and pipe cutters.
 Plumbers and pipefitters join pipes with wrenches.
 Pipefitters also join pipes with welding equipment.
 Plumbers and pipefitters cut pipes with pipe cutters.

Answer the questions.

What do plumbers and pipefitters do?
 _____.

What do plumbers and pipefitters join pipes with?
 _____.

What do pipefitters join pipes with?
 _____.

What do plumbers and pipefitters cut pipes with?
 _____.

ဝါကျကိုဖတ်ပြီး ဆွေးနွေးပါ။

ရေပိုက်သမားများနှင့် ပိုက်တပ်ဆင်သူများသည် ပိုက်ဂိုက်များ၊ ပလာယာများနှင့် ပိုက်ကတ်တာများကို အသုံးပြုကြသည်။

ပိုက်ဂိုက်	ပလာယာ	ပိုက်ကတ်တာ
------------	-------	------------

ပုံများ၏ အမည်ကို ရွတ်ဆိုပြီး စကားလုံးများနှင့် တွဲဖက်ပါ။



လျှပ်စစ်သမား	ရေပိုက်သမား	လက်သမား	ပိုက်ဂိုက်	ပိုက်ကတ်တာ	ပလာယာ
--------------	-------------	---------	------------	------------	-------

စကားလုံးများကို ဖတ်ပြီးရေးပါ။

ပိုက်ဂိုက်		ပြုပြင်ခြင်း	
ပလာယာ		ဓာတ်ငွေ့	
ပိုက်ကတ်တာ		ချိတ်ဆက်သည်	

စာပိုဒ်ကို ဖတ်ပါ။

ရေပိုက်သမားနှင့် ပိုက်တပ်ဆင်သူ နှစ်ဦးစလုံးသည် ပိုက်များကို တပ်ဆင်ခြင်းနှင့် ပြုပြင်ခြင်း လုပ်ကြသည်။

ရေပိုက်သမားများနှင့် ပိုက်တပ်ဆင်သူများသည် ပိုက်ဂိုက်များ၊ ပလာယာများနှင့် ပိုက်ကတ်တာများကို အသုံးပြုကြသည်။

မေးခွန်းများကို ဖြေပါ။

ရေပိုက်သမားနှင့် ပိုက်တပ်ဆင်သူတို့က မည်သည်တို့ကို လုပ်ကြရသနည်း။

Solve the problems.

$$\begin{array}{r} 524897 \\ - 213564 \\ \hline \end{array}$$

$$\begin{array}{r} 759722 \\ - 436443 \\ \hline \end{array}$$

$$\begin{array}{r} 756844 \\ - 330421 \\ \hline \end{array}$$

$$\begin{array}{r} 649563 \\ - 182075 \\ \hline \end{array}$$

$$\begin{array}{r} 714511 \\ - 562352 \\ \hline \end{array}$$

$$\begin{array}{r} 667520 \\ - 331310 \\ \hline \end{array}$$

$$\begin{array}{r} 869315 \\ - 372568 \\ \hline \end{array}$$

$$\begin{array}{r} 573687 \\ - 131624 \\ \hline \end{array}$$

$$\begin{array}{r} 614 \\ - 525 \\ \hline \end{array}$$

$$\begin{array}{r} 772 \\ - 348 \\ \hline \end{array}$$

$$\begin{array}{r} 526 \\ - 318 \\ \hline \end{array}$$

$$\begin{array}{r} 951 \\ - 632 \\ \hline \end{array}$$

$$\begin{array}{r} 8723 \\ - 4358 \\ \hline \end{array}$$

$$\begin{array}{r} 6314 \\ - 2116 \\ \hline \end{array}$$

$$\begin{array}{r} 4791 \\ - 2815 \\ \hline \end{array}$$

$$\begin{array}{r} 9720 \\ - 3146 \\ \hline \end{array}$$

Idris uses wrenches, pliers and pipe cutters as tools. He has 243 tools in total. He has 89 wrenches and 18 pipe cutters. How many pliers does he have?

Lesson 19

A Plumber's Story

Read and discuss the sentence.



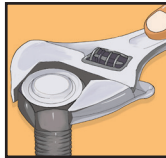
Idris **installs water** pipes and **drain** pipes.

installs

water

drain

Name the pictures and match them with the words.



wrench

health
worker

tailor

pliers

pipe cutter

plumber

Read and write the words.

installs	<i>installs</i>	
water	<i>water</i>	
drain	<i>drain</i>	
plumber	<i>plumber</i>	

skills	skills	
wrench	wrench	
pliers	pliers	
pipe cutter	pipe cutter	
skilled	skilled	

Read the passage.

Idris is a plumber with many skills.

Idris installs water pipes and drain pipes.

Idris uses a wrench and pliers to install water pipes.

Idris also uses a wrench and pliers to install drain pipes.

Idris uses a pipe cutter to cut water pipes and drain pipes.

Idris is a skilled plumber.

Everyone likes Idris.

Answer the questions.

Is Idris a plumber with many skills?

Yes. _____.

What does Idris install?

_____.

What does Idris use to install water pipes and drain pipes?

_____.

What does Idris use to cut water pipes and drain pipes?

Is Idris a skilled plumber?

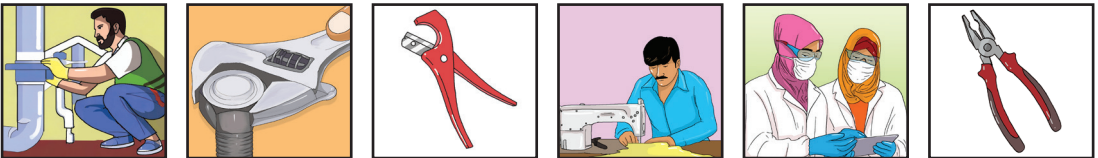
Yes.

ဝါကျကိုဖတ်ပြီး ဆွေးနွေးပါ။

အီဒီရိစ်သည် ရေပိုက်များနှင့် ရေဆင်းပိုက်များ တပ်ဆင်သည်။

တပ်ဆင်သည်	ရေ	ရေဆင်း
-----------	----	--------

ပုံများ၏ အမည်ကို ရွတ်ဆိုပြီး စကားလုံးများနှင့် တွဲဖက်ပါ။



ပိုက်ဂိုက်	ပိုက်ကတ်တာ	ပလာယာ	ကျန်းမာရေးဝန်ထမ်း	စက်ချုပ်သမား	ရေပိုက်သမား
------------	------------	-------	-------------------	--------------	-------------

စကားလုံးများကို ဖတ်ပြီးရေးပါ။

တပ်ဆင်သည်		ကျွမ်းကျင်မှုများ	
ရေ		ပိုက်ဂိုက်များ	
ရေဆင်း		ပလာယာ	
ရေပိုက်သမား		ပိုက်ကတ်တာ	

စာပိုဒ်ကို ဖတ်ပါ။

အီဒီရိစ်သည် ကျွမ်းကျင်မှုများစွာရှိသော ရေပိုက်သမားတစ်ဦးဖြစ်သည်။

အီဒီရိစ်သည် ရေပိုက်များနှင့် ရေဆင်းပိုက်များ တပ်ဆင်သည်။

အီဒီရိစ်သည် ရေပိုက်များနှင့် ရေဆင်းပိုက်များကို တပ်ဆင်ရန်အတွက် ပိုက်ဂိုက်နှင့် ပလာယာများကို အသုံးပြုသည်။

မေးခွန်းများကို ဖြေပါ။

အီဒီရိစ်သည် မည်သည်တို့ကို တပ်ဆင်သနည်း။

Solve the problems.

$$\begin{array}{r} 714 \\ - 425 \\ \hline \end{array}$$

$$\begin{array}{r} 72 \\ - 38 \\ \hline \end{array}$$

$$\begin{array}{r} 56 \\ - 18 \\ \hline \end{array}$$

$$\begin{array}{r} 851 \\ - 617 \\ \hline \end{array}$$

$$\begin{array}{r} 8732 \\ - 5758 \\ \hline \end{array}$$

$$\begin{array}{r} 6431 \\ - 2896 \\ \hline \end{array}$$

$$\begin{array}{r} 791 \\ - 215 \\ \hline \end{array}$$

$$\begin{array}{r} 972 \\ - 316 \\ \hline \end{array}$$

$$\begin{array}{r} 51364 \\ - 22987 \\ \hline \end{array}$$

$$\begin{array}{r} 759722 \\ - 436443 \\ \hline \end{array}$$

$$\begin{array}{r} 631836 \\ - 159027 \\ \hline \end{array}$$


$$\begin{array}{r} 64956 \\ - 18207 \\ \hline \end{array}$$

Idris installed 892 water pipes and drain pipes last year. He installed 368 water pipes. How many drain pipes did he install last year?

Lesson 20

Review

Read and discuss the sentence.




Tradespeople have **different skills** for different **trades**.

different

skills

trades

Name the pictures and match them with the words.



mason

carpenter

plumber

barber

food
processor

tailor

Read and write the words.

different	different	
skills	skills	
trades	trades	
sewing	sewing	
machines	machines	

measuring	<i>measuring</i>	
tapes	<i>tapes</i>	
chisel	<i>chisel</i>	
install	<i>install</i>	
wrenches	<i>wrenches</i>	
pliers	<i>pliers</i>	
pipe cutters	<i>pipe cutters</i>	

Read the passage.

Tailors have sewing skills.

Tailors use needles, measuring tapes and sewing machines.

Carpenters also have many skills.

Carpenters use a saw, a hammer and a chisel.

Plumbers and pipefitters install water pipes and gas pipes.

Plumbers and pipefitters use wrenches, pliers and pipe cutters.

Plumbers and pipefitters learn about the different tools they need in training.

Answer the questions.

What kind of skills do tailors have?

_____.

What do tailors use?

_____.

What do carpenters use?

_____.

What do plumbers and pipefitters install?

_____.

What do plumbers and pipefitters use?
_____.

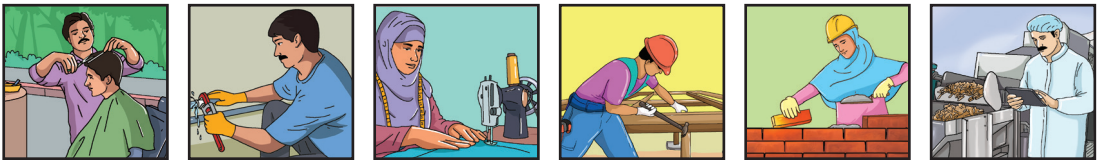
How do plumbers and pipefitters learn about the tools they need?
_____.

ဝါကျကိုဖတ်ပြီး ဆွေးနွေးပါ။

လုပ်သားများသည် မတူညီသော လုပ်ငန်းများအတွက် မတူညီသော ကျွမ်းကျင်မှုများရှိကြသည်။

မတူညီသော	ကျွမ်းကျင်မှုများ	လုပ်ငန်းများ
----------	-------------------	--------------

ပုံများ၏ အမည်ကို ရွတ်ဆိုပြီး စကားလုံးများနှင့် တွဲဖက်ပါ။



ပန်းရံသမား	ဆံသဆရာ	လက်သမား	ရေပိုက်သမား	အစားအစာထုပ်ပိုး ပြင်ဆင်သူ	စက်ချုပ်သမား
------------	--------	---------	-------------	---------------------------	--------------

စကားလုံးများကို ဖတ်ပြီးရေးပါ။

မတူညီသော		အပ်	
လုပ်ငန်းများ		ပိုက်ဂိုက်	
အပ်ချုပ်စက်		ပလာယာ	
ပကျော်ခြံ		ပိုက်ကတ်တာ	

စာပိုဒ်ကို ဖတ်ပါ။

လုပ်သားများသည် မတူညီသော လုပ်ငန်းများအတွက် မတူညီသော ကျွမ်းကျင်မှုများ ရှိကြသည်။

စက်ချုပ်သမားများသည် အပ်များ၊ ပေကြိုးနှင့် အပ်ချုပ်စက်များကို အသုံးပြုကြသည်။ ရေပိုက်သမားများနှင့် ပိုက်တပ်ဆင်သူများသည် ပိုက်ဂိုက်များ၊ ပလာယာများနှင့် ပိုက်ကတ်တားများကို အသုံးပြုကြသည်။

မေးခွန်းများကို ဖြေပါ။

လုပ်သားများသည် မတူညီသော လုပ်ငန်းများအတွက် မည်သို့သောကျွမ်းကျင်မှုများ ရှိကြသနည်း။

Solve the problems.

$\begin{array}{r} 823414 \\ - 581565 \\ \hline \end{array}$	$\begin{array}{r} 753082 \\ - 224297 \\ \hline \end{array}$	$\begin{array}{r} 743104 \\ - 163958 \\ \hline \end{array}$	$\begin{array}{r} 687323 \\ - 432567 \\ \hline \end{array}$
---	---	---	---

$\begin{array}{r} 51364 \\ - 2987 \\ \hline \end{array}$	$\begin{array}{r} 5972 \\ - 364 \\ \hline \end{array}$	$\begin{array}{r} 631 \\ - 57 \\ \hline \end{array}$	$\begin{array}{r} 64956 \\ - 8207 \\ \hline \end{array}$
--	--	--	--

$\begin{array}{r} 513 \\ - 87 \\ \hline \end{array}$	$\begin{array}{r} 759722 \\ - 36443 \\ \hline \end{array}$	$\begin{array}{r} 631836 \\ - 15927 \\ \hline \end{array}$	$\begin{array}{r} 64956 \\ - 1207 \\ \hline \end{array}$
--	--	--	--

Jasmin made 514 pieces of clothes to sell. She sold 237 pieces of clothes in April. She sold all the other clothes in May. How many did she sell in May?

Lesson 21

A Community Health Worker's Skills

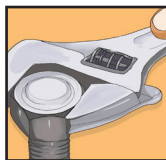
Read and discuss the sentence.



Jasmin works at the **health centre** and in the **community**.

health **centre** **community**

Name the pictures and match them with the words.



health
worker

craftsperson

mechanic

pipe
cutter

wrench

pliers

Read and write the words.

health	health	
centre	centre	
community	community	
feel	feel	
pain	pain	

bandage	<i>bandage</i>	
take	<i>take</i>	
medicine	<i>medicine</i>	
must	<i>must</i>	
time	<i>time</i>	

Read the passage.

Jasmin: **Why have you come to the health centre today?**

Faisel: **I do not feel well.**

Jasmin: **Do you have any pain from the bandage?**

Faisel: **Yes. I have some pain from the bandage.**

Jasmin: **Did you take your medicine on time yesterday?**

Faisel: **No. I did not take my medicine on time yesterday.**

Jasmin: **You must take your medicine on time.
I will give you some more medicine today.**

Faisel: **What is the medicine for?**

Jasmin: **The medicine is for pain.
You must take the pain medicine on time.**

Faisel: **Thank you. I will take the pain medicine on time.**

Answer the questions for Faisel.

How do you feel today?

Faisel: _____.

Do you have pain from the bandage?

Faisel: _____.

Did you take your medicine on time yesterday?

Faisel: _____.

What is your medicine for?

Faisel: _____.

Will you take your pain medicine on time?

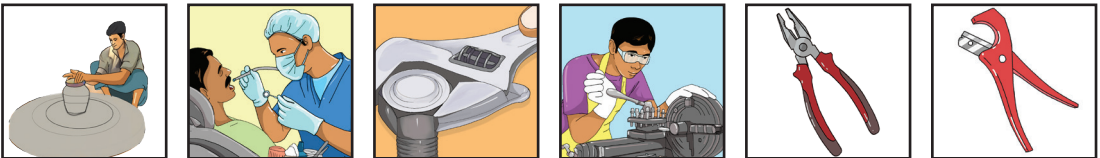
Faisel: _____.

ဝါကျကိုဖတ်ပြီး ဆွေးနွေးပါ။

ဂျာစ်မိန်သည် ကျန်းမာရေးဌာနနှင့် ရပ်ရွာထဲတွင် အလုပ်လုပ်သည်။

ကျန်းမာရေး	ဌာန	ရပ်ရွာ
------------	-----	--------

ပုံများ၏ အမည်ကို ရွတ်ဆိုပြီး စကားလုံးများနှင့် တွဲဖက်ပါ။



ကျန်းမာရေး ဝန်ထမ်း	လက်မှုပညာရှင်	စက်ပြင်ဆရာ	ပိုက်ကတ်တာ	ပိုက်ဂိုက်	ပလာယာ
-----------------------	---------------	------------	------------	------------	-------

စကားလုံးများကို ဖတ်ပြီးရေးပါ။

ကျန်းမာရေးဌာန		ဆေးသောက်	
ရပ်ရွာ		ရမယ်	
နေ(မ)ကောင်း		အချိန်မှန်	

စာပိုဒ်ကို ဖတ်ပါ။

- ဖိုက်ဆဲလ်။ ။ကျွန်တော်ဒီနေ့ နေမကောင်းဘူး။
 ဂျာစ်မိန်။ ။မနေ့က ကျွန်မပေးတဲ့ ဆေးကို အချိန်မှန်သောက်ရဲ့လား။
 ဖိုက်ဆဲလ်။ ။ဟင့်အင်း။ မနေ့က ကျွန်တော် ဆေးကို အချိန်မှန် မသောက်မိဘူး။
 ဂျာစ်မိန်။ ။ဆေးကို အချိန်မှန်သောက်ရမယ်လေ။

မေးခွန်းများကို ဖြေပါ။

ဆေးကို မည်သို့သောက်ရမည်နည်း။

Recite the table.

	0	1	2	3	4	5	6	7	8	9	10
x 1	0	1	2	3	4	5	6	7	8	9	10
x 2	0	2	4	6	8	10	12	14	16	18	20
x 3	0	3	6	9	12	15	18	21	24	27	30

Solve the problems.

$6 \times 3 =$ $7 \times 3 =$ $5 \times 3 =$ $6 \times 2 =$

$4 \times 3 =$ $4 \times 2 =$ $8 \times 1 =$ $10 \times 1 =$


$10 \times 3 =$ $3 \times 3 =$ $3 \times 2 =$ $7 \times 2 =$

Jasmin used 3 bandages a day last week. How many bandages did Jasmin use last week?

Lesson 22

A Community Health Worker's Kit

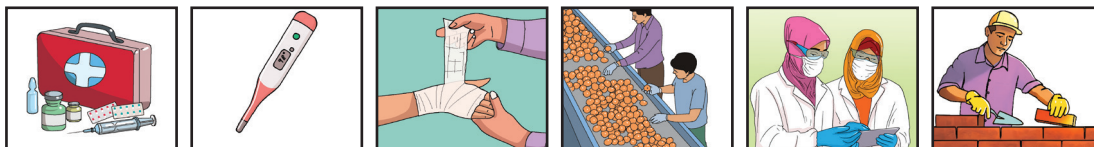
Read and discuss the sentence.



Jasmin has a **first aid kit** with a **thermometer** and **bandages**.

first aid kit	thermometer	bandages
---------------	-------------	----------

Name the pictures and match them with the words.



health worker	bandages	first aid kit	thermometer	mason	food processor
---------------	----------	---------------	-------------	-------	----------------

Read and write the words.

first	first	
aid	aid	
kit	kit	
thermometer	thermometer	
bandages	bandages	

visits	visits	
looks	looks	
after	after	
mothers	mothers	
children	children	
fever	fever	
burns	burns	

Read the passage.

Jasmin is a community health worker.

Jasmin works in the health centre two days a week.

Jasmin visits people in the community three days a week.

Jasmin looks after mothers and children in the community.

Jasmin has a first aid kit with what she needs in it.

She has a thermometer and bandages in the first aid kit.

She uses the thermometer to see if children have a fever.

Jasmin gives medicine to children who have a fever.

Jasmin puts bandages on burns.

Answer the questions.

How many days a week does Jasmin work in the health centre ?

_____.

How many days a week does Jasmin visit people in the community?

_____.

What does Jasmin use to see if children have a fever?

_____.

What does Jasmin give to children who have a fever?
_____.

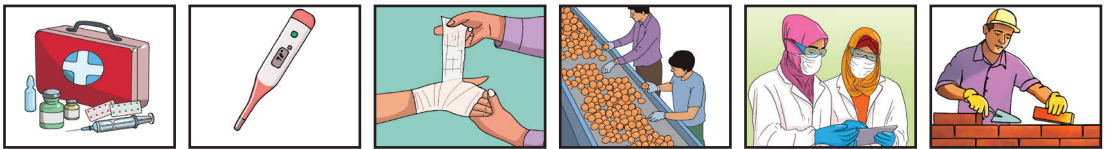
What does Jasmin put on burns?
_____.

ဝါကျကိုဖတ်ပြီး ဆွေးနွေးပါ။

ဂျာစ်မိန်တွင် ရှေးဦးသူနာပြုပစ္စည်းများ၊ သာမိုမီတာနှင့် ပတ်တီးများ ရှိသည်။

ရှေးဦးသူနာပြုပစ္စည်းများ	သာမိုမီတာ	ပတ်တီးများ
--------------------------	-----------	------------

ပုံများ၏ အမည်ကို ရွတ်ဆိုပြီး စကားလုံးများနှင့် တွဲဖက်ပါ။



ကျန်းမာရေး ဝန်ထမ်း	ရှေးဦးသူနာပြု ပစ္စည်းများ	သာမိုမီတာ	ပတ်တီးများ	ပန်းရံဆရာ	အစားအစာထုပ်ပိုး ပြင်ဆင်သူ
--------------------	---------------------------	-----------	------------	-----------	---------------------------

စကားလုံးများကို ဖတ်ပြီးရေးပါ။

ရှေးဦးသူနာပြုပစ္စည်းများ			
သာမိုမီတာ		မိခင်များ	
ပတ်တီးများ		ကလေးများ	
လိုက်လံကြည့်ရှု		ပြုစုစောင့်ရှောက်	

စာပိုဒ်ကို ဖတ်ပါ။

ဂျာစ်မိန်သည် ရပ်ရွာကျန်းမာရေးဝန်ထမ်းတစ်ဦးဖြစ်သည်။
 ဂျာစ်မိန်သည် တစ်ပတ်လျှင် နှစ်ရက် ကျန်းမာရေးဌာနတွင် အလုပ်လုပ်သည်။
 ဂျာစ်မိန်သည် ရပ်ရွာရှိလူများကို တစ်ပတ်လျှင် သုံးရက် လိုက်လံကြည့်ရှုပေးသည်။
 ဂျာစ်မိန်သည် ရပ်ရွာအတွင်းရှိ မိခင်များနှင့် ကလေးများကို ပြုစုစောင့်ရှောက်သည်။

မေးခွန်းများကို ဖြေပါ။

ဂျာစ်မိန်သည် ရပ်ရွာရှိ လူများကို တစ်ပတ်လျှင် ဘယ်နှစ်ရက် လိုက်လံကြည့်ရှုပေးသနည်း။

Recite the table.

	0	1	2	3	4	5	6	7	8	9	10
x 1	0	1	2	3	4	5	6	7	8	9	10
x 2	0	2	4	6	8	10	12	14	16	18	20
x 3	0	3	6	9	12	15	18	21	24	27	30
x 4	0	4	8	12	16	20	24	28	32	36	40

Solve the problems.

$6 \times 3 =$ $7 \times 4 =$ $5 \times 3 =$ $6 \times 2 =$

$4 \times 4 =$ $4 \times 2 =$ $8 \times 4 =$ $10 \times 1 =$

$10 \times 3 =$ $3 \times 4 =$ $3 \times 2 =$ $7 \times 3 =$

Faruk works as a health worker in the health centre 4 days a week. He looks after 6 children a day in the health centre. How many children does he look after a week?

Lesson 23

A Community Health Worker's Story

Read and discuss the sentence.

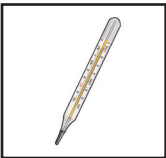


Jasmin is a **caring** community health **worker**.

caring

worker

Name the pictures and match them with the words.



electrician

first aid kit

bandages

tailor

health
worker

thermometer

Read and write the words.

caring	<i>caring</i>	
worker	<i>worker</i>	
stay	<i>stay</i>	
healthy	<i>healthy</i>	
teaches	<i>teaches</i>	

keep	keep	
food	food	
vaccinations	vaccinations	

Read the passage.

Jasmin visits people in the community three days a week.

Jasmin looks after mothers and children in the community.

Jasmin wants all the mothers and children to stay healthy.

She teaches mothers about how to keep their children healthy.

Jasmin teaches mothers about healthy food for children.

She teaches them about vaccinations for children.

Jasmin gives the vaccinations at the health centre.

Jasmin is a caring community health worker.

Answer the questions.

Who does Jasmin look after in the community?

Who does Jasmin teach to keep their children healthy?

Who teaches mothers about healthy food for children?

Where does Jasmin give vaccinations?

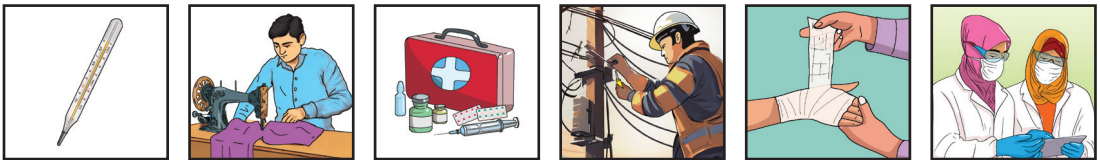
Who is a caring community health worker?

ဝါကျကိုဖတ်ပြီး ဆွေးနွေးပါ။

ဂျာစ်မိန်သည် ဂရုစိုက်တတ်သော ရပ်ရွာကျန်းမာရေးဝန်ထမ်းတစ်ဦး ဖြစ်သည်။

ဂရုစိုက်တတ်သော	ကျန်းမာရေးဝန်ထမ်း
----------------	-------------------

ပုံများ၏ အမည်ကို ရွတ်ဆိုပြီး စကားလုံးများနှင့် တွဲဖက်ပါ။



လျှပ်စစ်သမား	ရှေးဦးသူနာပြုပစ္စည်းများ	ပတ်တီး	စက်ချုပ်သမား	ကျန်းမာရေးဝန်ထမ်း	သာမိုမီတာ
--------------	--------------------------	--------	--------------	-------------------	-----------

စကားလုံးများကို ဖတ်ပြီးရေးပါ။

ဂရုစိုက်တတ်သော		ကျန်းမာအောင်	
ဝန်ထမ်း		သင်ပေးသည်	
စောင့်ရှောက်		ကာကွယ်ဆေး	

စာပိုဒ်ကို ဖတ်ပါ။

ဂျာစ်မိန်သည် ရပ်ရွာအတွင်းရှိ မိခင်များနှင့် ကလေးများကို ပြုစုစောင့်ရှောက်သည်။
 ဂျာစ်မိန်သည် ကလေးများ ကျန်းမာအောင် မည်သို့စောင့်ရှောက်ရမည်အား မိခင်များကို သင်ပေးသည်။
 ဂျာစ်မိန်သည် ကျန်းမာရေးဌာနတွင် ကာကွယ်ဆေးထိုးပေးသည်။
 ဂျာစ်မိန်သည် ဂရုစိုက်တတ်သော ရပ်ရွာကျန်းမာရေးဝန်ထမ်းတစ်ဦးဖြစ်သည်။

မေးခွန်းများကို ဖြေပါ။

ဂျာစ်မိန်သည် ရပ်ရွာအတွင်းရှိ မည်သူတို့ကို ပြုစုစောင့်ရှောက်သနည်း။

Recite the table.

	0	1	2	3	4	5	6	7	8	9	10
x 1	0	1	2	3	4	5	6	7	8	9	10
x 2	0	2	4	6	8	10	12	14	16	18	20
x 3	0	3	6	9	12	15	18	21	24	27	30
x 4	0	4	8	12	16	20	24	28	32	36	40
x 5	0	5	10	15	20	25	30	35	40	45	50

Solve the problems.

$10 \times 5 =$

$3 \times 5 =$

$3 \times 4 =$

$7 \times 3 =$

$4 \times 4 =$

$8 \times 2 =$

$8 \times 4 =$

$9 \times 4 =$

$$\begin{array}{r} 3168 \\ +6266 \\ \hline \end{array}$$

$$\begin{array}{r} 46596 \\ +13057 \\ \hline \end{array}$$

$$\begin{array}{r} 1793 \\ +5688 \\ \hline \end{array}$$

$$\begin{array}{r} 36794 \\ +54608 \\ \hline \end{array}$$

Jasmin gave vaccinations to 948 mothers and 1216 children. How many people did Jasmin give vaccinations to?

Lesson 24

A Mechanic's Skills

Read and discuss the sentence.



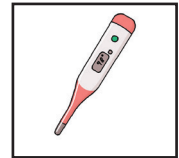
There are **many different mechanics** with different skills.

many

different

mechanics

Name the pictures and match them with the words.



mechanic

thermometer

carpenter

first aid kit

barber

bandages

Read and write the words.

many	many	
different	different	
mechanics	mechanics	
trade	trade	
cylinder	cylinder	

installs	<i>installs</i>	
repairs	<i>repairs</i>	
training	<i>training</i>	
motor	<i>motor</i>	
engine	<i>engine</i>	

Read the passage.

Arif: **What is your trade?**

Aziz: **I am a mechanic.
What is your trade?**

Arif: **I am also a mechanic.
What kind of mechanic are you?**

Aziz: **I am a gas cylinder mechanic.**

Arif: **What does a gas cylinder mechanic do?**

Aziz: **A gas cylinder mechanic installs and repairs gas cylinders.**

Arif: **How did you learn to install and repair gas cylinders?**

Aziz: **I needed training on how to install and repair gas cylinders.**

What kind of mechanic are you?

Arif: **I am a motor engine repair mechanic.**

Aziz: **How did you learn to repair motor engines?**

Arif: **I needed training on how to repair motor engines.**

Answer the questions.

What kind of mechanic is Aziz?

What does a gas cylinder mechanic do?

How did Aziz learn to repair gas cylinders?

What kind of mechanic is Arif?


How did Arif learn to repair motor engines?

ဝါကျကိုဖတ်ပြီး ဆွေးနွေးပါ။

စက်ပြင်ဆရာများစွာတို့တွင် မတူညီသော ကျွမ်းကျင်မှုများ ရှိကြသည်။

များစွာ	မတူညီသော	စက်ပြင်ဆရာ
---------	----------	------------

ပုံများ၏ အမည်ကို ရွတ်ဆိုပြီး စကားလုံးများနှင့် တွဲဖက်ပါ။



စက်ပြင်ဆရာ	သာမိုမီတာ	လက်သမား	ရှေးဦးသူနာပြု ပစ္စည်းများ	ဆံသဆရာ	ပတ်တီး
------------	-----------	---------	------------------------------	--------	--------

စကားလုံးများကို ဖတ်ပြီးရေးပါ။

များစွာ		တပ်ဆင်သည်	
မတူညီသော		ပြုပြင်သည်	
စက်ပြင်ဆရာ		မော်တာ	
ဂတ်စ်အိုး		အင်ဂျင်	

စာပိုဒ်ကို ဖတ်ပါ။

- အာရိမ်။ ။ဂက်စ်အိုးပြင်ဆရာက ဘာတွေလုပ်ရသလဲ။
 အာဇိမ်။ ။ဂက်စ်အိုးပြင်ဆရာက ဂက်စ်အိုးတွေ တပ်ဆင်တာ ပြုပြင်တာ လုပ်ပါတယ်။ ခင်များကကော ဘယ်လိုစက်ပြင်ဆရာလဲ။
 အာရိမ်။ ။ကျွန်တော်က မော်တာအင်ဂျင် စက်ပြင်ဆရာပါ။

မေးခွန်းများကို ဖြေပါ။

အာရိမ်သည် မည်သည့်စက်ပြင်ဆရာဖြစ်သနည်း။

Recite the table.

	0	1	2	3	4	5	6	7	8	9	10
x 1	0	1	2	3	4	5	6	7	8	9	10
x 2	0	2	4	6	8	10	12	14	16	18	20
x 3	0	3	6	9	12	15	18	21	24	27	30
x 4	0	4	8	12	16	20	24	28	32	36	40
x 5	0	5	10	15	20	25	30	35	40	45	50
x 6	0	6	12	18	24	30	36	42	48	54	60

Solve the problems.

$10 \times 5 =$	$3 \times 2 =$	$3 \times 4 =$	$7 \times 6 =$
$4 \times 6 =$	$8 \times 6 =$	$8 \times 4 =$	$9 \times 4 =$
$\begin{array}{r} 713403 \\ -371554 \\ \hline \end{array}$	$\begin{array}{r} 653072 \\ -324286 \\ \hline \end{array}$	$\begin{array}{r} 643123 \\ -263947 \\ \hline \end{array}$	$\begin{array}{r} 587321 \\ -132587 \\ \hline \end{array}$

Aziz is a mechanic. He repaired 3217 gas cylinders and installed 10025 gas cylinders last year. How many gas cylinders in total did he repair or install last year?

Lesson 25

A Mechanic's Tools


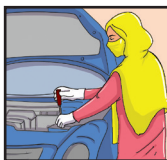
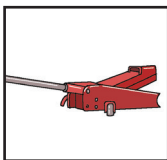
Read and discuss the sentence.



Many mechanics use a **screwdriver**, a **torch** and a **jack**.

screwdriver	torch	jack
-------------	-------	------

Name the pictures and match them with the words.



mechanic	screwdriver	jack	torch	plumber	craftsperson
----------	-------------	------	-------	---------	--------------

Read and write the words.

screwdriver	screwdriver	
torch	torch	
jack	jack	
inside	inside	
car	car	

lift	lift	
change	change	
tire	tire	

Read the passage.

Mechanics use many different tools.

A mechanic uses a screwdriver, a torch, a jack and many other tools.

A motor mechanic needs a torch to see inside the engine.

A motor mechanic needs a screwdriver to put screws in the engine.

A car mechanic needs a jack to lift a car to change a tire.

A gas cylinder mechanic uses wrenches and pliers to repair gas cylinders.

Mechanics learn about the different tools they need in training.

Answer the questions.

What tools does a mechanic use?

_____.

Why does a motor mechanic need a torch?

_____.

What does a car mechanic use a jack for?

_____.

What does a gas cylinder mechanic use to repair gas cylinders?

_____.

How do mechanics learn about the tools they need?

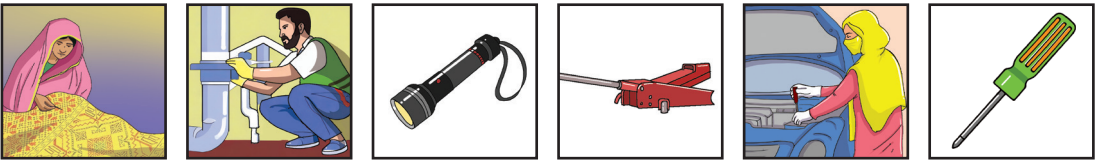
_____.

ဝါကျကိုဖတ်ပြီး ဆွေးနွေးပါ။

စက်ပြင်ဆရာအများစုသည် **ဝက်အူလှည့်**၊ **ဓာတ်မီး**နှင့် **ဂျီက**တို့ကို အသုံးပြုကြသည်။

ဝက်အူလှည့်	ဓာတ်မီး	ဂျီက
-------------------	----------------	-------------

ပုံများ၏ အမည်ကို ရွတ်ဆိုပြီး စကားလုံးများနှင့် တွဲဖက်ပါ။



စက်ပြင်ဆရာ	ဝက်အူလှည့်	ဓာတ်မီး	ဂျီက	ရေပိုက်သမား	လက်မှုပညာရှင်
------------	------------	---------	------	-------------	---------------

စကားလုံးများကို ဖတ်ပြီးရေးပါ။

ဝက်အူလှည့်		ကား	
ဓာတ်မီး		မြှောက်ရန်	
ဂျီက		လဲရာတွင်	
အတွင်းပိုင်း		တာယာ	

စာပိုဒ်ကို ဖတ်ပါ။

စက်ပြင်ဆရာများစွာသည် မတူညီသောကိရိယာများစွာကို အသုံးပြုကြသည်။
 မော်တာစက်ပြင်ဆရာသည် အင်ဂျင်အတွင်းပိုင်းကို ကြည့်ရန် ဓာတ်မီး လိုအပ်သည်။
 ကားစက်ပြင်ဆရာသည် တာယာလဲရာတွင် ကားကိုမြှောက်ရန် ဂျီကတစ်ခု လိုအပ်သည်။

မေးခွန်းများကို ဖြေပါ။

မော်တာစက်ပြင်ဆရာသည် အဘယ်ကြောင့် ဓာတ်မီး လိုအပ်သနည်း။

Recite the table.

	0	1	2	3	4	5	6	7	8	9	10
x 1	0	1	2	3	4	5	6	7	8	9	10
x 2	0	2	4	6	8	10	12	14	16	18	20
x 3	0	3	6	9	12	15	18	21	24	27	30
x 4	0	4	8	12	16	20	24	28	32	36	40
x 5	0	5	10	15	20	25	30	35	40	45	50
x 6	0	6	12	18	24	30	36	42	48	54	60
x 7	0	7	14	21	28	35	42	49	56	63	70

Solve the problems.

$10 \times 5 =$ $3 \times 2 =$ $3 \times 4 =$ $7 \times 6 =$

$4 \times 6 =$ $8 \times 6 =$ $8 \times 4 =$ $9 \times 4 =$

$$\begin{array}{r} 14 \\ \times 2 \\ \hline \end{array}$$

$$\begin{array}{r} 12 \\ \times 3 \\ \hline \end{array}$$

$$\begin{array}{r} 11 \\ \times 6 \\ \hline \end{array}$$

$$\begin{array}{r} 12 \\ \times 4 \\ \hline \end{array}$$

$$\begin{array}{r} 12 \\ \times 2 \\ \hline \end{array}$$

$$\begin{array}{r} 31 \\ \times 3 \\ \hline \end{array}$$

$$\begin{array}{r} 15 \\ \times 2 \\ \hline \end{array}$$

$$\begin{array}{r} 33 \\ \times 2 \\ \hline \end{array}$$

Arif repairs motor engines. He repaired 6 motor engines a day for 5 days last week. He also repaired 9 motor engines a day for 4 days this week. How many motor engines did he repair in two weeks?

Lesson 26

A Mechanic's Story

Read and discuss the sentence.



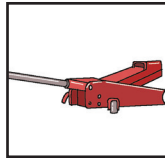
Zubair is a **helpful** and **kind stove** mechanic.

helpful

kind

stove

Name the pictures and match them with the words.



mechanic

health worker

torch

carpenter

jack

screwdriver

Read and write the words.

helpful	helpful	
kind	kind	
stove	stove	
clients	clients	
happy	happy	

fitting	fitting	
helps	helps	
services	services	
charge	charge	

Read the passage.

Zubair is a skilled stove mechanic.

Zubair fits and repairs stoves for his clients in the community.

Zubair helps his clients buy good stoves and fitting pipes.

Zubair wants to make his clients happy with his stove fitting and stove repair services.

Zubair fits stoves and repairs stoves when he is needed.

Zubair is helpful and kind.

Zubair does not charge for small repairs.

Everyone in the community likes Zubair because of his good work and because he is helpful and kind.

Answer the questions.

What does Zubair fit and repair for his clients in the community?

_____.

Does Zubair help his clients buy good stoves and fitting pipes?

Yes. _____.

What does Zubair want to make his clients happy with?

_____.

What services does Zubair give when he is needed?

_____.

What does Zubair not charge for?

_____.

Who likes Zubair for his good work and because he is helpful and kind?

_____.

ဝါကျကိုဖတ်ပြီး ဆွေးနွေးပါ။

ဇူဘိုင်ရ်သည် ရိုးသားပြီး ကြင်နာတတ်သော မီးဖိုပြင်ဆရာတစ်ဦး ဖြစ်ပါသည်။

ရိုးသား	ကြင်နာတတ်သော	မီးဖို
---------	--------------	--------

ပုံများ၏ အမည်ကို ရွတ်ဆိုပြီး စကားလုံးများနှင့် တွဲဖက်ပါ။



စက်ပြင်ဆရာ	ကျန်းမာရေးဝန်ထမ်း	ဓာတ်မီး	ဂျိုက်	လက်သမား	ဝက်အူလှည့်
------------	-------------------	---------	--------	---------	------------

စကားလုံးများကို ဖတ်ပြီးရေးပါ။

ရိုးသားသော		တပ်ဆင်ပေးခြင်း	
ကြင်နာတတ်သော		ကူညီပေးသည်	
မီးဖို		ဖောက်သည်	

စာပိုဒ်ကို ဖတ်ပါ။

ဇူဘိုင်ရ်သည် ကျွမ်းကျင်သော မီးဖိုပြင်ဆရာတစ်ဦး ဖြစ်သည်။

ဇူဘိုင်ရ်သည် ရပ်ရွာထဲရှိ သူ၏ဖောက်သည်များအတွက် မီးဖိုများ တပ်ဆင်ပေးခြင်းနှင့် ပြုပြင်ပေးခြင်းများ လုပ်သည်။

ဇူဘိုင်ရ်သည် ဖောက်သည်များကို ကောင်းမွန်သော မီးဖိုများဝယ်ယူပေးခြင်းနှင့် ပိုက်များ တပ်ဆင်ပေးခြင်းဖြင့် ကူညီပေးသည်။

မေးခွန်းများကို ဖြေပါ။

ဧည့်သည်ရသည် ရပ်ရွာထဲရှိ သူ၏ဖောက်သည်များအတွက် မည်သည်တို့ကို တပ်ဆင်ပေးခြင်း ပြုပြင်ပေးခြင်းများ ပြုလုပ်သနည်း။

Recite the table.

	0	1	2	3	4	5	6	7	8	9	10
x 1	0	1	2	3	4	5	6	7	8	9	10
x 2	0	2	4	6	8	10	12	14	16	18	20
x 3	0	3	6	9	12	15	18	21	24	27	30
x 4	0	4	8	12	16	20	24	28	32	36	40
x 5	0	5	10	15	20	25	30	35	40	45	50
x 6	0	6	12	18	24	30	36	42	48	54	60
x 7	0	7	14	21	28	35	42	49	56	63	70
x 8	0	8	16	24	32	40	48	56	64	72	80

Solve the problems.

$$\begin{array}{r} 14 \\ \times 8 \\ \hline \end{array}$$

$$\begin{array}{r} 12 \\ \times 4 \\ \hline \end{array}$$

$$\begin{array}{r} 11 \\ \times 7 \\ \hline \end{array}$$

$$\begin{array}{r} 12 \\ \times 3 \\ \hline \end{array}$$

$$\begin{array}{r} 14 \\ \times 2 \\ \hline \end{array}$$

$$\begin{array}{r} 12 \\ \times 5 \\ \hline \end{array}$$

$$\begin{array}{r} 11 \\ \times 8 \\ \hline \end{array}$$

$$\begin{array}{r} 34 \\ \times 4 \\ \hline \end{array}$$

$$\begin{array}{r} 14 \\ \times 21 \\ \hline \end{array}$$

$$\begin{array}{r} 12 \\ \times 12 \\ \hline \end{array}$$

$$\begin{array}{r} 11 \\ \times 11 \\ \hline \end{array}$$


$$\begin{array}{r} 12 \\ \times 13 \\ \hline \end{array}$$

Zubair helps 14 clients a day. He helps his clients 4 days a week. How many clients can Zubair help a week?

Lesson 27

A Craftsperson's Skills


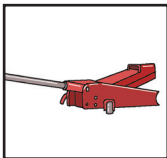
Read and discuss the sentence.



There are **many different** craftspeople with different skills.

many **different** **craftspeople**

Name the pictures and match them with the words.



craftsperson

torch

electrician

screwdriver

mason

jack

Read and write the words.

craftspeople	craftspeople	
craftsperson	craftsperson	
wood	wood	
carver	carver	
carves	carves	

patterns	patterns	
figures	figures	
painter	painter	
paint	paint	
ceilings	ceilings	
items	items	

Read the passage.

Anos: **What is your trade?**

Hamid: **I am a craftsman.**

What is your trade?

Anos: **I am also a craftsman.**

What kind of craftsman are you?

Hamid: **I am a wood carver.**

Anos: **What does a wood carver do?**

Hamid: **A wood carver carves patterns and figures on wood.**

Anos: **How did you learn to carve patterns and figures on wood?**

Hamid: **I needed training on how to carve patterns and figures on wood.**

What kind of craftsman are you?

Anos: **I am a wall painter.**

I paint walls and ceilings.

Hamid: **How did you learn to paint walls and ceilings?**

Anos: **I needed training on how to paint walls and ceilings.**

Answer the questions.

What kind of craftsman is Hamid?

What does a wood carver do?

How did Hamid learn to carve wood?

What kind of craftsman is Anos?

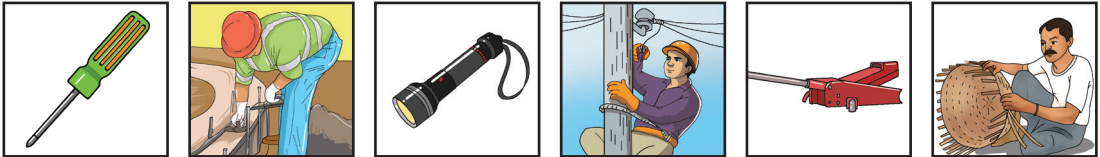
How did Anos learn to paint walls and ceilings?

ဝါကျကိုဖတ်ပြီး ဆွေးနွေးပါ။

မတူညီသော လက်မှုပညာရှင်တို့တွင် မတူညီသော ကျွမ်းကျင်မှုများရှိကြသည်။

မတူညီသော	တို့	ကျွမ်းကျင်မှုများ
----------	------	-------------------

ပုံများ၏ အမည်ကို ရွတ်ဆိုပြီး စကားလုံးများနှင့် တွဲဖက်ပါ။



လက်မှုပညာရှင်	ဓာတ်မီး	လျှပ်စစ်သမား	ဝက်အူလှည့်	ပန်းရံသမား	ဂျိုက်
---------------	---------	--------------	------------	------------	--------

စကားလုံးများကို ဖတ်ပြီးရေးပါ။

လက်မှုပညာရှင်		ပန်းပုဆရာ	
ထွင်းထုသည်		ပုံစံများ	
အရုပ်များ		နံရံဆေးရေးသမား	
မျက်နှာကျက်		ဆေးသုတ်သည်	

စာပိုဒ်ကို ဖတ်ပါ။

ဟမိဒ်။ ။ကျွန်တော်က ပန်းပုဆရာပါ။ ပန်းပုဆရာဟာ သစ်သားကို ပုံစံများနှင့် အရုပ်များ ထွင်းထုပုံဖော်ပါတယ်။ ခင်များကကော ဘယ်လို လက်မှုပညာရှင်မျိုးလဲ။ အာနော့စ်။ ။ကျွန်တော်က နံရံဆေးရေးဆရာဖြစ်ပြီး နံရံတွေနဲ့ မျက်နှာကျက်တွေကို ဆေးသုတ်တယ်။

မေးခွန်းများကို ဖြေပါ။

ပန်းပုဆရာတစ်ဦးသည် မည်သည်ကို ပြုလုပ်သနည်း။

Recite the table.

	0	1	2	3	4	5	6	7	8	9	10
x 1	0	1	2	3	4	5	6	7	8	9	10
x 2	0	2	4	6	8	10	12	14	16	18	20
x 3	0	3	6	9	12	15	18	21	24	27	30
x 4	0	4	8	12	16	20	24	28	32	36	40
x 5	0	5	10	15	20	25	30	35	40	45	50
x 6	0	6	12	18	24	30	36	42	48	54	60
x 7	0	7	14	21	28	35	42	49	56	63	70
x 8	0	8	16	24	32	40	48	56	64	72	80
x 9	0	9	18	27	36	45	54	63	72	81	90

Solve the problems.

$$\begin{array}{r} 14 \\ \times 5 \\ \hline \end{array}$$

$$\begin{array}{r} 12 \\ \times 9 \\ \hline \end{array}$$

$$\begin{array}{r} 11 \\ \times 7 \\ \hline \end{array}$$

$$\begin{array}{r} 12 \\ \times 4 \\ \hline \end{array}$$

$$\begin{array}{r} 14 \\ \times 7 \\ \hline \end{array}$$

$$\begin{array}{r} 12 \\ \times 3 \\ \hline \end{array}$$

$$\begin{array}{r} 11 \\ \times 8 \\ \hline \end{array}$$

$$\begin{array}{r} 34 \\ \times 6 \\ \hline \end{array}$$

$$\begin{array}{r} 14 \\ \times 14 \\ \hline \end{array}$$

$$\begin{array}{r} 12 \\ \times 12 \\ \hline \end{array}$$

$$\begin{array}{r} 11 \\ \times 11 \\ \hline \end{array}$$

$$\begin{array}{r} 12 \\ \times 15 \\ \hline \end{array}$$

$$\begin{array}{r} 14 \\ \times 25 \\ \hline \end{array}$$

$$\begin{array}{r} 12 \\ \times 22 \\ \hline \end{array}$$

$$\begin{array}{r} 11 \\ \times 40 \\ \hline \end{array}$$

$$\begin{array}{r} 12 \\ \times 13 \\ \hline \end{array}$$

Hamid carves figures on wooden goods. He has 27 wooden items and he needs to carve 3 figures on each wooden item. How many figures does he need to carve in total?

Lesson 28

A Craftsperson's Tools

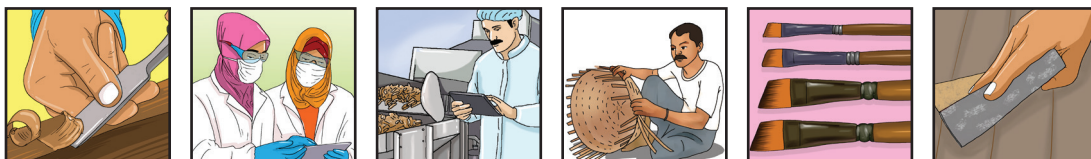
Read and discuss the sentence.



Many **craftspeople** need **sandpaper**, **chisels** and **brushes**.

craftspeople	sandpaper	chisels	brushes
--------------	-----------	---------	---------

Name the pictures and match them with the words.



craftsperson	chisel	sandpaper	brush	health worker	food processor
--------------	--------	-----------	-------	---------------	----------------

Read and write the words.

craftspeople	craftspeople	
sandpaper	sandpaper	
chisels	chisels	

brushes	brushes	
woodcarver	woodcarver	
carve	carve	
painter	painter	
rollers	rollers	
block	block	
printer	printer	
printing	printing	

Read the passage.

Craftspeople use many different tools.

Craftspeople use sandpaper, chisels, brushes and many other tools.

A woodcarver uses chisels to carve wood.

A carpenter uses sandpaper on wood furniture.

A wall painter uses rollers and brushes to paint walls.

A block printer uses woodblocks for block printing.

Craftspeople learn about the different tools they need in training.

Answer the questions.

What tools do craftspeople use?

What does a woodcarver use to carve wood?

What does a carpenter use sandpaper on?

What does a wall painter use to paint walls?

What does a block printer use woodblocks for?

How do craftspeople learn about the tools they need?

ဝါကျကိုဖတ်ပြီး ဆွေးနွေးပါ။

လက်မှုပညာရှင်အများစုသည် ကော်ဖတ်များ၊ ဆောက်များနှင့် စုတ်တံများ လိုအပ်သည်။

လက်မှုပညာရှင်	ကော်ဖတ်များ	ဆောက်များ	စုတ်တံများ
---------------	-------------	-----------	------------

ပုံများ၏ အမည်ကို ရွတ်ဆိုပြီး စကားလုံးများနှင့် တွဲဖက်ပါ။



လက်မှုပညာရှင်	ဆောက်	ကော်ဖတ်	စုတ်တံ	ကျန်းမာရေး ဝန်ထမ်း	အစားအစာ ထုပ်ပိုး ပြင်ဆင်သူ
---------------	-------	---------	--------	--------------------	----------------------------

စကားလုံးများကို ဖတ်ပြီးရေးပါ။

လက်မှုပညာရှင်		ပန်းပုဆရာ	
ဆောက်		အချောသတ်ရန်	
မျက်နှာကျက်များ		ကော်ဖတ်	

စာပိုဒ်ကို ဖတ်ပါ။

လက်မှုပညာရှင်များသည် မတူညီသောကိရိယာများစွာကို အသုံးပြုကြသည်။

ပန်းပုဆရာသည် သစ်သားထွင်းရန် ဆောက်ကို အသုံးပြုသည်။

လက်သမားတစ်ဦးသည် သစ်သားပရိဘောဂများကို အချောသတ်ရန် ကော်ဖတ်ကို အသုံးပြုသည်။

မေးခွန်းများကို ဖြေပါ။

ပန်းပုဆရာသည် သစ်သားထွင်းရန် မည်သည်ကို အသုံးပြုသနည်း။

Solve the problems.

$$\begin{array}{r} 14 \\ \times 25 \\ \hline \end{array}$$

$$\begin{array}{r} 12 \\ \times 20 \\ \hline \end{array}$$

$$\begin{array}{r} 11 \\ \times 12 \\ \hline \end{array}$$

$$\begin{array}{r} 12 \\ \times 15 \\ \hline \end{array}$$

$$\begin{array}{r} 14 \\ \times 15 \\ \hline \end{array}$$

$$\begin{array}{r} 12 \\ \times 22 \\ \hline \end{array}$$

$$\begin{array}{r} 11 \\ \times 40 \\ \hline \end{array}$$

$$\begin{array}{r} 12 \\ \times 12 \\ \hline \end{array}$$

$$\begin{array}{r} 7134 \\ - 3715 \\ \hline \end{array}$$

$$\begin{array}{r} 65302 \\ - 24286 \\ \hline \end{array}$$

$$\begin{array}{r} 748753 \\ - 463567 \\ \hline \end{array}$$

$$\begin{array}{r} 587321 \\ + 132587 \\ \hline \end{array}$$

$$\begin{array}{r} 613403 \\ + 271554 \\ \hline \end{array}$$

$$\begin{array}{r} 53072 \\ + 34286 \\ \hline \end{array}$$

$$\begin{array}{r} 6423 \\ + 2639 \\ \hline \end{array}$$

$$\begin{array}{r} 5821 \\ - 1587 \\ \hline \end{array}$$

Asma is a block printer. She uses 26 woodblocks to print a cloth. She has 32 clothes to print. How many woodblocks does she use in total?

Lesson 29

A Craftsman's Story

Read and discuss the sentence.





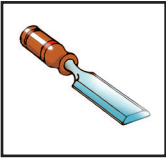
Omar sells **block printed clothes** in the market.

block

printed

clothes

Name the pictures and match them with the words.



carpenter

plumber

chisel

sandpaper

brush

craftsman

Read and write the words.

block	block	
printed	printed	
clothes	clothes	
plain	plain	

fabrics	fabrics	
natural	natural	
dyes	dyes	
patterns	patterns	

Read the passage.

Omar has many skills in block printing.
 Omar buys plain fabrics from the market.
 Omar makes natural dyes for fabric printing.
 Omar uses woodblocks and natural dyes to print fabrics.
 Omar prints patterns on fabrics in different ways.
 Omar sells block printed clothes in the market.
 People like block printed clothes.
 Omar trains people on block printing.

Answer the questions.

What does Omar buy from the market?

_____.

What does Omar use to print fabrics?

_____.

How does Omar print patterns on fabrics?

_____.

Where does Omar sell block-printed clothes?

_____.

Do people like Omar's block-printed clothes?

Yes. _____.

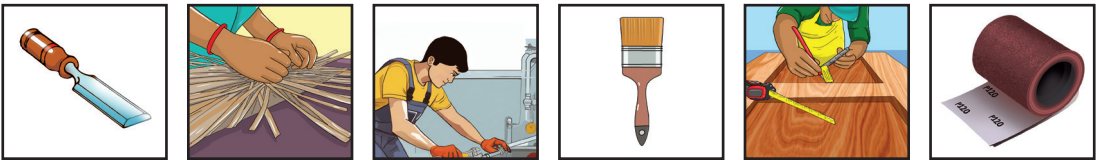
What does Omar train people on?

ဝါကျကိုဖတ်ပြီး ဆွေးနွေးပါ။

အိုမောရ်သည် သူဆေးဆိုးပန်းရိုက်ထားသော အဝတ်အစားများကို
ဈေးထဲတွင် ရောင်းချသည်။

ဆေးဆိုးပန်းရိုက်ထားသော	အဝတ်အစားများ
------------------------	--------------

ပုံများ၏ အမည်ကို ရွတ်ဆိုပြီး စကားလုံးများနှင့် တွဲဖက်ပါ။



လက်သမား	ပိုက်ပြင်သမား	ဆောက်	ကော်ဖတ်	စုတ်တံ	လက်မှုပညာရှင်
---------	---------------	-------	---------	--------	---------------

စကားလုံးများကို ဖတ်ပြီးရေးပါ။

ဆေးဆိုးပန်းရိုက်		အရောင်စုံ	
မြောင်		အထည်များ	
ပိတ်စများ		သဘာဝဆိုးဆေး	
သစ်သားဘလောက် တုံးများ		ရုပ်ရွာထဲ	

စာပိုဒ်ကို ဖတ်ပါ။

အိုမောရ်သည် ဈေးမှ ပြောင်ပိတ်စများကို အရောင်စုံဝယ်သည်။

အိုမောရ်သည် ပိတ်စများကို ဆေးဆိုးပန်းရိုက်ရန်အတွက် သစ်သားဘလောက်

တုံးများနှင့် သဘာဝဆိုးဆေးများကို အသုံးပြုသည်။

အိုမောရ်သည် ရုပ်ရွာထဲတွင် ဆေးဆိုးပန်းရိုက်ထားသော အထည်များကို ရောင်းချသည်။

မေးခွန်းများကို ဖြေပါ။

အိုမောရ်သည် အထည်များကို ဆေးဆိုးပန်းရိုက်ရန်အတွက် မည်သည်တို့ကို အသုံးပြုသနည်း။

Solve the problems.

$$\begin{array}{r} 18 \\ \times 5 \\ \hline \end{array} \quad \begin{array}{r} 19 \\ \times 20 \\ \hline \end{array} \quad \begin{array}{r} 25 \\ \times 14 \\ \hline \end{array} \quad \begin{array}{r} 2 \\ \times 5 \\ \hline \end{array} \quad \begin{array}{r} 30 \\ \times 44 \\ \hline \end{array} \quad \begin{array}{r} 13 \\ \times 13 \\ \hline \end{array}$$

$$\begin{array}{r} 14 \\ \times 15 \\ \hline \end{array} \quad \begin{array}{r} 12 \\ \times 32 \\ \hline \end{array} \quad \begin{array}{r} 11 \\ \times 50 \\ \hline \end{array} \quad \begin{array}{r} 12 \\ \times 7 \\ \hline \end{array} \quad \begin{array}{r} 0 \\ \times 3 \\ \hline \end{array} \quad \begin{array}{r} 13 \\ \times 12 \\ \hline \end{array}$$

$$\begin{array}{r} 14 \\ \times 25 \\ \hline \end{array} \quad \begin{array}{r} 12 \\ \times 20 \\ \hline \end{array} \quad \begin{array}{r} 11 \\ \times 12 \\ \hline \end{array} \quad \begin{array}{r} 22 \\ \times 15 \\ \hline \end{array} \quad \begin{array}{r} 40 \\ \times 44 \\ \hline \end{array} \quad \begin{array}{r} 13 \\ \times 18 \\ \hline \end{array}$$


$$\begin{array}{r} 525403 \\ +289349 \\ \hline \end{array} \quad \begin{array}{r} 63077 \\ +14346 \\ \hline \end{array} \quad \begin{array}{r} 4313 \\ +3947 \\ \hline \end{array} \quad \begin{array}{r} 7734 \\ -1627 \\ \hline \end{array} \quad \begin{array}{r} 82144 \\ -43255 \\ \hline \end{array} \quad \begin{array}{r} 526801 \\ -153218 \\ \hline \end{array}$$

Omar sells 57 block-printed clothes at the market a day. He sells clothes 18 days a month. How many block-printed clothes does he sell a month ?

Lesson 30

Review

Read and discuss the sentence.



Mechanics and craftspeople have different skills.

mechanics

craftspeople

Name the pictures and match them with the words.



craftsperson

health
worker

mechanic

carpenter

mason

electrician

Read and write the words.

mechanics	<i>mechanics</i>	
craftspeople	<i>craftspeople</i>	
craftsperson	<i>craftsperson</i>	
health	<i>health</i>	
workers	<i>workers</i>	

wood	wood	
carver	carver	

Read the passage.

Different people have different skills.

They also use different tools.

A community health worker has a first aid kit with a thermometer, bandages and medicines.

Mechanics need screwdrivers, wrenches, jacks, hammers, a torch and pliers for their work.

Woodcarvers, carpenters, wall painters and block printers are different types of craftspeople.

Woodcarvers and carpenters use sandpaper, chisels and hammers to make wooden goods.

Wall painters use rollers and brushes to paint walls.

A block printer uses woodblocks for block printing.

Craftspeople learn about the different tools they need in training.

Answer the questions.

What does a community health worker have?

_____.

What do mechanics need for their work?

_____.

Who are different types of craftspeople?

_____.

What do woodcarvers and carpenters use?

_____.

What do wall painters use?

_____.

What does a block printer use for block printing?

How do craftspeople learn about the different tools they need?

ဝါကျကိုဖတ်ပြီး ဆွေးနွေးပါ။

စက်ပြင်ဆရာနှင့် လက်မှုပညာရှင်များတွင် မတူညီသော အရည်အချင်းများရှိသည်။။

စက်ပြင်ဆရာ	လက်မှုပညာရှင်များ
-------------------	--------------------------

ပုံများ၏ အမည်ကို ရွတ်ဆိုပြီး စကားလုံးများနှင့် တွဲဖက်ပါ။



လက်မှုပညာရှင်	ကျန်းမာရေးဝန်ထမ်း	စက်ပြင်သမား	လက်သမား	ပန်းရံသမား	လျှပ်စစ်သမား
---------------	-------------------	-------------	---------	------------	--------------

စကားလုံးများကို ဖတ်ပြီးရေးပါ။

သာမိုမီတာ		ပတ်တီး	
ဝက်အူလှည့်		ဂျိုက်	
ဓာတ်မီး		ပန်းပုဆရာ	
နံရံဆေးရေးသမား		ဆေးဆိုးပန်းရိုက်သမား	

စာပိုဒ်ကို ဖတ်ပါ။

ရပ်ရွာကျန်းမာရေးဝန်ထမ်းတစ်ဦးတွင် သာမိုမီတာ၊ ပတ်တီးများနှင့် ဆေးဝါးများပါဝင်သော ရှေးဦးသူနာပြုပစ္စည်းများပါရှိသည်။

စက်ပြင်ဆရာများသည် ၎င်းတို့၏လုပ်ငန်းအတွက် ဝက်အူလှည့်များ၊ ပိုက်ဂိုက်များ၊
ဂျိုက်များ၊ တူများ၊ ဓာတ်မီးများနှင့် ပလာယာများ လိုအပ်သည်။
ပန်းပုဆရာ၊ လက်သမားဆရာ၊ နံရံဆေးရေးသမား၊ ဆေးဆိုးပန်းရိုက်သမား
စသည်ဖြင့် လက်မှုပညာရှင် အမျိုးမျိုးရှိကြသည်။

မေးခွန်းများကို ဖြေပါ။

လက်မှုပညာရှင်အမျိုးမျိုးကို ဖော်ပြပါ။

Recite the table.

	0	1	2	3	4	5	6	7	8	9	10
x1	0	1	2	3	4	5	6	7	8	9	10
x2	0	2	4	6	8	10	12	14	16	18	20
x3	0	3	6	9	12	15	18	21	24	27	30
x4	0	4	8	12	16	20	24	28	32	36	40
x5	0	5	10	15	20	25	30	35	40	45	50
x6	0	6	12	18	24	30	36	42	48	54	60
x7	0	7	14	21	28	35	42	49	56	63	70
x8	0	8	16	24	32	40	48	56	64	72	80
x9	0	9	18	27	36	45	54	63	72	81	90

Solve the problems.

$\begin{array}{r} 8 \\ \times 5 \\ \hline \end{array}$	$\begin{array}{r} 9 \\ \times 2 \\ \hline \end{array}$	$\begin{array}{r} 7 \\ \times 4 \\ \hline \end{array}$	$\begin{array}{r} 6 \\ \times 5 \\ \hline \end{array}$
$\begin{array}{r} 14 \\ \times 5 \\ \hline \end{array}$	$\begin{array}{r} 12 \\ \times 3 \\ \hline \end{array}$	$\begin{array}{r} 11 \\ \times 9 \\ \hline \end{array}$	$\begin{array}{r} 12 \\ \times 7 \\ \hline \end{array}$
$\begin{array}{r} 14 \\ \times 35 \\ \hline \end{array}$	$\begin{array}{r} 12 \\ \times 12 \\ \hline \end{array}$	$\begin{array}{r} 11 \\ \times 21 \\ \hline \end{array}$	$\begin{array}{r} 22 \\ \times 25 \\ \hline \end{array}$

Lesson 31

Masons' and Bricklayers' Skills

Read and discuss the sentence.




Masons and bricklayers have many of the same skills.

masons

bricklayers

Name the pictures and match them with the words.



mason

food
processor

sandpaper

brush

mechanic

chisel

Read and write the words.

masons	<i>masons</i>	
bricklayers	<i>bricklayers</i>	
construction	<i>construction</i>	
build	<i>build</i>	

bricks	bricks	
blocks	blocks	
stones	stones	
lay	lay	
learn	learn	
needed	needed	
laid	laid	

Read the passage.

Alom: **What is your trade?**

Faruk: **I am a construction worker.**

Alom: **What kind of construction worker are you?**

Faruk: **I am a mason.**

I cut and lay stones to build houses.

What is your trade?

Alom: **I am also a construction worker.**

Faruk: **What kind of construction worker are you?**

Alom: **I am a bricklayer.**

Faruk: **What do you do?**

Alom: **I lay bricks and blocks to make walls.**

Faruk: **How did you learn to lay bricks and blocks?**

Alom: **I needed training on how to lay bricks and blocks.**

How did you learn to cut and lay stones?

Faruk: **I needed training on how to cut and lay stones.**

Answer the questions.

What kind of construction worker is Faruk?

Faruk is _____.

What does a mason do?

A mason cuts and _____.

What is the trade of Alom?

Alom is a _____.

What does a bricklayer do?

A bricklayer lays _____.

How did Alom learn to lay bricks and blocks?

Alom needed _____.

ဝါကျကိုဖတ်ပြီး ဆွေးနွေးပါ။

ပန်းရံဆရာနှင့် အုတ်စီသမားသည် တူညီသော
အရည်အချင်းများစွာရှိသည်။

ပန်းရံဆရာ	အုတ်စီသမား
-----------	------------

ပုံများ၏ အမည်ကို ရွတ်ဆိုပြီး စကားလုံးများနှင့် တွဲဖက်ပါ။



ပန်းရံဆရာ	စက်ပြင်သမား	ဆောက်	စုတ်တံ	အစားအစာ ထုပ်ပိုးပြင်ဆင်သူ	ကော်ဖတ်
-----------	-------------	-------	--------	---------------------------	---------

စကားလုံးများကို ဖတ်ပြီးရေးပါ။

ဆောက်လုပ်ရေး		တည်ဆောက်သည်	
အုတ်ခဲများ		စီသည်	

ဘလောက်တုံးများ		အုတ်စီသမား	
ကျောက်တုံးများ		ပန်းရံဆရာ	

စာပိုဒ်ကို ဖတ်ပါ။

အလောမံ။ ။ခင်များက ဘယ်လို ဆောက်လုပ်ရေး လုပ်သားမျိုးလဲ။
 ဖာရုခ်။ ။ကျွန်တော်က ပန်းရံဆရာပါ။ ကျွန်တော်က အိမ်တွေကို အုတ်ခဲများ၊
 ဘလောက်တုံးများနှင့် ကျောက်တုံးများအသုံးပြုပြီး ဆောက်ပါတယ်။
 အလောမံ။ ။ကျွန်တော်က အုတ်စီသမားပါ။ ကျွန်တော်က အုတ်ခဲတွေ၊
 ဘလောက်တုံးတွေ၊ ကျောင်းတုံးတွေကို စီပြီး နံရံတွေပြုလုပ်ပါတယ်။

မေးခွန်းများကို ဖြေပါ။

ပန်းရံဆရာတစ်ဦးသည် မည်သည်ကို ပြုလုပ်သနည်း။

Solve the problems.

$\begin{array}{r} 8 \\ \times 7 \\ \hline \end{array}$	$\begin{array}{r} 9 \\ \times 6 \\ \hline \end{array}$	$\begin{array}{r} 7 \\ \times 3 \\ \hline \end{array}$	$\begin{array}{r} 6 \\ \times 8 \\ \hline \end{array}$
$\begin{array}{r} 28 \\ \div 4 \\ \hline \end{array}$	$\begin{array}{r} 32 \\ \div 8 \\ \hline \end{array}$	$\begin{array}{r} 63 \\ \div 9 \\ \hline \end{array}$	$\begin{array}{r} 81 \\ \div 9 \\ \hline \end{array}$
$\begin{array}{r} 16 \\ \div 4 \\ \hline \end{array}$	$\begin{array}{r} 35 \\ \div 7 \\ \hline \end{array}$	$\begin{array}{r} 36 \\ \div 4 \\ \hline \end{array}$	$\begin{array}{r} 49 \\ \div 7 \\ \hline \end{array}$
$\begin{array}{r} 16 \\ \div 2 \\ \hline \end{array}$	$\begin{array}{r} 14 \\ \div 2 \\ \hline \end{array}$	$\begin{array}{r} 18 \\ \div 2 \\ \hline \end{array}$	$\begin{array}{r} 12 \\ \div 3 \\ \hline \end{array}$

Faruk is a mason. He cuts and lays 7 stones an hour. He cut and laid 35 stones on Tuesday and 42 stones on Wednesday. How many hours did he cut and lay stones on Tuesday and Wednesday?

Lesson 32

A Bricklayer's Tools

Read and discuss the sentence.







A bricklayer uses a **trowel**, a **wire brush** and a **brick hammer**.

trowel

wire brush

brick hammer

Name the pictures and match them with the words.



mason

trowel

wire brush

brick hammer

tailor

electrician

Read and write the words.

trowel	trowel	
wire	wire	
brush	brush	

brick	brick	
hammer	hammer	
cement	cement	
sweep	sweep	
stone	stone	
houses	houses	

Read the passage.

Bricklayers and masons use many different tools.

Bricklayers and masons use a trowel, a wire brush, a brick hammer and many other tools.

Bricklayers use a trowel to lay brick with cement to make walls.

Bricklayers use a wire brush to sweep cement from the walls.

Masons use a brick hammer and other tools to cut stone to make houses.

Masons and bricklayers learn how to use the different tools in training.

Answer the questions.

What tools do bricklayers and masons use?

_____.

What does a bricklayer use a trowel for?

_____.

What does a bricklayer use to sweep cement from walls?

What does mason use to cut stone to make houses?





How do bricklayers and masons learn how to use the different tools?

ဝါကျကိုဖတ်ပြီး ဆွေးနွေးပါ။

အုတ်စီသမားသည် သံလက်၊ ကျင်တွယ်နှင့် အုတ်တူကို အသုံးပြုသည်။

သံလက်	ကျင်တွယ်	အုတ်တူ
-------	----------	--------

ပုံများ၏ အမည်ကို ရွတ်ဆိုပြီး စကားလုံးများနှင့် တွဲဖက်ပါ။



အုတ်စီသမား	သံလက်	သံဘရက်	အုတ်တူ	စက်ချုပ်ဆရာ	လျှပ်စစ်သမား
------------	-------	--------	--------	-------------	--------------

စကားလုံးများကို ဖတ်ပြီးရေးပါ။

ဘိလပ်မြေ		ရေချိန်	
သံလက်		သံဘရက်	

ကျင်တွယ်		အုတ်တူ	
----------	--	--------	--

စာပိုဒ်ကို ဖတ်ပါ။

ဆောက်လုပ်ရေးလုပ်သားများသည် ကိရိယာအမျိုးမျိုးကို အသုံးပြုကြသည်။
ဆောက်လုပ်ရေးလုပ်သားများသည် ကျင်တွယ်၊ ရေချိန်၊ သံလက်၊ အုတ်တူနှင့်
အခြားကိရိယာများစွာကို အသုံးပြုကြသည်။

အုတ်စီသမားသည် အုတ်ခဲကို ဘိလပ်မြေဖြင့် မံရန် သံလက်ကို အသုံးပြုသည် ။

မေးခွန်းများကို ဖြေပါ။

အုတ်စီသမားသည် သံလက်ကို မည်သည့်အတွက် အသုံးပြုသနည်း

Solve the problems.

$$\begin{array}{r} 64 \\ \div 8 \end{array}$$

$$\begin{array}{r} 42 \\ \div 7 \end{array}$$

$$\begin{array}{r} 36 \\ \div 9 \end{array}$$

$$\begin{array}{r} 45 \\ \div 5 \end{array}$$

$$\begin{array}{r} 24 \\ \div 4 \end{array}$$

$$\begin{array}{r} 32 \\ \div 8 \end{array}$$

$$\begin{array}{r} 54 \\ \div 9 \end{array}$$

$$\begin{array}{r} 81 \\ \div 9 \end{array}$$

$$\begin{array}{r} 16 \\ \div 4 \end{array}$$

$$\begin{array}{r} 49 \\ \div 7 \end{array}$$

$$\begin{array}{r} 40 \\ \div 4 \end{array}$$

$$\begin{array}{r} 25 \\ \div 5 \end{array}$$

Alom lays 6 bricks in an hour. He had 72 bricks to lay to build a wall. He laid 42 bricks yesterday. How many hours does he need to lay bricks today to build the wall?

Lesson 33

A Bricklayer's Story


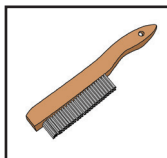
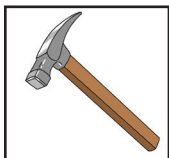
Read and discuss the sentence.



Alom wears **gloves** and a **helmet** to keep **safe**.

gloves	helmet	safe
--------	--------	------

Name the pictures and match them with the words.



mason	craftsperson	trowel	brick hammer	wire brush	plumber
-------	--------------	--------	--------------	------------	---------

Read and write the words.

gloves	gloves	
helmet	helmet	
safe	safe	
wears	wears	

construction	construction	
site	site	
jobs	jobs	
danger	danger	
keep	keep	

Read the passage.

Alom is a bricklayer.

Alom works at a construction site with other construction workers.

The different construction workers do different jobs.

Alom lays bricks, blocks and stones to make walls.

Alom uses cement with the bricks, blocks and stones.

Alom had training to make walls that are safe.

There can be different types of danger at a construction site.

Construction workers have to keep safe.

Alom uses a helmet and gloves to keep safe.

Answer the questions.

Where does Alom work?

_____.

What does Alom lay to make walls?

_____.

What does Alom use with the bricks, blocks and stones?

_____.

What tools does Alom use to make walls?

_____.

How did Alom learn to make walls that are safe?


What does Alom use to keep safe?

ဝါကျကိုဖတ်ပြီး ဆွေးနွေးပါ။

အာလောမ်သည် ရိုးသားဖြောင့်မတ်ပြီး ကျွမ်းကျင်မှုရှိသော
အုတ်စီသမားဖြစ်သည်။

ရိုးသားဖြောင့်မတ်	အုတ်စီသမား
-------------------	------------

ပုံများ၏ အမည်ကို ရွတ်ဆိုပြီး စကားလုံးများနှင့် တွဲဖက်ပါ။



ပန်းရံသမား	အုတ်တူ	သံဘရက်	လက်မှုပညာရှင်	သံလက်	ပိုက်ပြင်သမား
------------	--------	--------	---------------	-------	---------------

စကားလုံးများကို ဖတ်ပြီးရေးပါ။

ချိန်သီး		အင်ဂျင်နီယာ	
ရေချိန်		အကြံဉာဏ်	
လိုက်နာ		ချီးကျူး	
ရိုးသားဖြောင့်မတ်		ဂရုတစိုက်	

စာပိုဒ်ကို ဖတ်ပါ။

အာလောမ်သည် ဆောက်လုပ်ရေးလုပ်ငန်းခွင်တွင် ကျွမ်းကျင်သော အုတ်စီသမားဖြစ်သည်။

သူသည် နံရံများကို အုတ်ခဲများ၊ ဘလောက်တုံးများ၊ ကျောက်တုံးများဖြင့် ဆောက်လုပ်သည်။

သံလက်၊ ရေချိန်နှင့် ချိန်သီးတို့ကို အသုံးပြုသည်။

အာလောမ်သည် အင်ဂျင်နီယာ၏ အကြံဉာဏ်ကို လိုက်နာပြီး ဂရုတစိုက် လုပ်ဆောင်သည့်အတွက် ချီးကျူးခံခဲ့ရသည်။

မေးခွန်းများကို ဖြေပါ။

အင်ဂျင်နီယာက အာလောမ်ကို ဘာကြောင့်ချီးကျူးသနည်း။

Solve the problems.

$$\begin{array}{r} 48 \\ \div 6 \\ \hline \end{array}$$

$$\begin{array}{r} 49 \\ \div 7 \\ \hline \end{array}$$

$$\begin{array}{r} 20 \\ \div 4 \\ \hline \end{array}$$

$$\begin{array}{r} 45 \\ \div 5 \\ \hline \end{array}$$

$$\begin{array}{r} 24 \\ \div 12 \\ \hline \end{array}$$

$$\begin{array}{r} 32 \\ \div 16 \\ \hline \end{array}$$

$$\begin{array}{r} 64 \\ \div 14 \\ \hline \end{array}$$

$$\begin{array}{r} 77 \\ \div 11 \\ \hline \end{array}$$

$$\begin{array}{r} 24 \\ \times 8 \\ \hline \end{array}$$

$$\begin{array}{r} 12 \\ \times 7 \\ \hline \end{array}$$

$$\begin{array}{r} 25 \\ \times 9 \\ \hline \end{array}$$

$$\begin{array}{r} 13 \\ \times 5 \\ \hline \end{array}$$

Alom works as a bricklayer. Yesterday he laid 32 bricks in 4 hours. He laid bricks for 5 hours today. How many bricks did he lay in two days?

Lesson 34

A Food Processor's Skills

Read and discuss the sentence.





Food processors need different skills to process food.

food

processors

process

Name the pictures and match them with the words.



food
processor

electrician

trowel

barber

brick
hammer

wire
brush

Read and write the words.

food	food	
processors	processors	
process	process	
processing	processing	

business	business	
dry	dry	
fruit	fruit	
mix	mix	
together	together	
pack	pack	

Read the passage.

Sofa: **What business have you started?**

Hakim: **I have not started any business.
Tell me what business I can start.**

Sofa: **You can start a food processing business.**

Hakim: **How can I start a food processing business?**

Sofa: **You can buy different types of dry fruit and mix the dry fruit together.**

Hakim: **How can I sell the dry fruit after I mix it?**

Sofa: **You can pack the mixed dry fruit to sell it.**

Hakim: **Where can I sell the mixed dry fruit?**

Sofa: **You can sell the mixed dry fruit in the market.**

Hakim: **How can I learn more about food processing?**

Sofa: **You can learn more about food processing in training.**

Answer the questions.

What business has Hakim started?

What business can Hakim start?

How can Hakim start a food processing business?

How can Hakim sell the dry fruit after he mixes it?
_____.


How can Hakim learn more about food processing?
_____.

ဝါကျကိုဖတ်ပြီး ဆွေးနွေးပါ။

အစားအစာထုပ်ပိုးပြင်ဆင်သူများသည် မတူညီသော အစားအစာ ပြင်ဆင်ခြင်းဆိုင်ရာ ကျွမ်းကျင်မှုများ လိုအပ်ပါသည်။

အစားအစာထုပ်ပိုးပြင်ဆင်သူ	ပြင်ဆင်ခြင်း
--------------------------	--------------

ပုံများ၏ အမည်ကို ရှုတ်ဆိုပြီး စကားလုံးများနှင့် တွဲဖက်ပါ။



အစားအစာ ထုပ်ပိုးပြင်ဆင်သူ	သံဘရက်	သံလက်	လျှပ်စစ်သမား	အုတ်တူ	ဆံသဆရာ
---------------------------	--------	-------	--------------	--------	--------

စကားလုံးများကို ဖတ်ပြီးရေးပါ။

အစားအစာခြောက်		အိတ်	
ထုပ်ပိုးပြင်ဆင်		စလုပ်	
ရောစပ်နိုင်		သွားရောင်းနိုင်	

စာပိုဒ်ကို ဖတ်ပါ။

- ဟင်္ဂိမ်း။ ။အစားအစာပြင်ဆင်ထုပ်လုပ်တဲ့ လုပ်ငန်းကို ဘယ်လိုစလုပ်ရမလဲ။
- ဆော်ဖာ။ ။အစားအစာခြောက်တစ်ချို့ကို ဝယ်ပြီး ရောစပ်နိုင်တယ်။
- ဟင်္ဂိမ်း။ ။ရောထားတဲ့ အစားအစာခြောက်တွေကို ဘယ်လိုရောင်းရမလဲ။
- ဆော်ဖာ။ ။ရောထားတဲ့ အစားအစာခြောက်တွေကို အိတ်နဲ့ ထုပ်ပိုးပြင်ဆင်ပြီး ဈေးမှာ သွားရောင်းနိုင်ပါတယ်။

မေးခွန်းများကို ဖြေပါ။

ဟင်္ဂိမ်းသည် အစားအသောက် ထုပ်ပိုးပြင်ဆင်မှုကို မည်သို့စတင်နိုင်မည်နည်း။

Solve the problems.

$\begin{array}{r} 48 \\ \div 16 \end{array}$	$\begin{array}{r} 96 \\ \div 12 \end{array}$	$\begin{array}{r} 68 \\ \div 17 \end{array}$	$\begin{array}{r} 75 \\ \div 15 \end{array}$
$\begin{array}{r} 24 \\ \div 12 \end{array}$	$\begin{array}{r} 32 \\ \div 16 \end{array}$	$\begin{array}{r} 64 \\ \div 14 \end{array}$	$\begin{array}{r} 77 \\ \div 11 \end{array}$
$\begin{array}{r} 12 \\ \times 17 \end{array}$	$\begin{array}{r} 23 \\ \times 11 \end{array}$	$\begin{array}{r} 25 \\ \times 14 \end{array}$	$\begin{array}{r} 36 \\ \times 28 \end{array}$
$\begin{array}{r} 6403 \\ + 2154 \end{array}$	$\begin{array}{r} 5307 \\ + 3428 \end{array}$	$\begin{array}{r} 4513 \\ + 2689 \end{array}$	$\begin{array}{r} 6721 \\ - 2287 \end{array}$

Hakim can sell a pack of dry fruit for 55 taka. He can make 25 packs in a day. How much can he sell the packs of dry fruit for in one day?

Lesson 35

A Food Processor's Tools


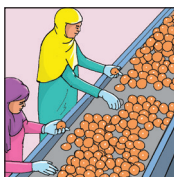

Read and discuss the sentence.



Food processors may use a grinder, a frying pan and a knife.

grinder	frying pan	knife
---------	------------	-------

Name the pictures and match them with the words.



food processor	frying pan	knife	grinder	carpenter	mechanic
----------------	------------	-------	---------	-----------	----------

Read and write the words.

grinder	grinder	
frying	frying	

pan	pan	
knife	knife	
grind	grind	
spices	spices	
powder	powder	
fried	fried	
peanuts	peanuts	
slices	slices	
packages	packages	

Read the passage.

Different food processors use different tools to process food.

A food processor may grind spices with a grinder to make powder. She can pack and sell the powder in the market.

A tradesman may fry peanuts with a frying pan. He can pack and sell the fried peanuts in the market.

A fruit processor may use a knife to slice fruit in thin or thick slices. She may dry the fruit in the sun.

She can put the dry fruit in packages to sell in the market.

Food processing can be a good trade.

People in the community will buy the packages of dry food.

Food processors can learn more about food processing in training.

Answer the questions.

What does a food processor grind spices with?
_____.

What does a small tradesman fry peanuts with?
_____.

What does a fruit processor use to slice fruit?
_____.

Where can a food processor dry food?
_____.

How can a food processor learn more about food processing?
_____.

ဝါကျကိုဖတ်ပြီး ဆွေးနွေးပါ။

အစားအစာ ပြင်ဆင်ထုပ်ပိုးသူများသည် အစားအစာကို ပြင်ဆင်ရန် မတူညီသော ပစ္စည်းကိရိယာများကို အသုံးပြုကြသည်။

အစားအစာ	ပြင်ဆင်ရန်	ပစ္စည်းကိရိယာများ
---------	------------	-------------------

ပုံများ၏ အမည်ကို ရွတ်ဆိုပြီး စကားလုံးများနှင့် တွဲဖက်ပါ။



အစားအစာ ပြင်ဆင်ထုပ်ပိုးသူ	လက်သမား	ဓား	ကြိတ်စက်	ဒယ်အိုး	စက်ပြင်သမား
------------------------------	---------	-----	----------	---------	-------------

စကားလုံးများကို ဖတ်ပြီးရေးပါ။

ကြိတ်စက်		ကြိတ်ချေ	
အမှုန်များ		ဒယ်အိုး	
မြေပဲ		ဈေးရောင်းသူ	

စာပိုဒ်ကို ဖတ်ပါ။

အစားအစာခြောက်များကို ကြိတ်စက်ဖြင့် ကြိတ်ချေပြီး အမှုန်များကို ဈေးတွင် ရောင်းချသည်။

ဈေးရောင်းသူတစ်ဦးသည် မြေပဲကို ဒယ်အိုးဖြင့်ကြော်ပြီး မြေပဲကြော်များကို ဈေးတွင် ရောင်းချသည်။

မေးခွန်းများကို ဖြေပါ။

အစားအစာ ပြင်ဆင်ထုပ်ပိုးသူများသည် အစားအစာများကို မည်သည်နှင့်ကြိတ်သနည်း။

Solve the problems.

$$\begin{array}{r} 36 \\ \div 12 \\ \hline \end{array}$$

$$\begin{array}{r} 84 \\ \div 12 \\ \hline \end{array}$$

$$\begin{array}{r} 96 \\ \div 32 \\ \hline \end{array}$$

$$\begin{array}{r} 85 \\ \div 17 \\ \hline \end{array}$$

$$\begin{array}{r} 132 \\ \div 12 \\ \hline \end{array}$$

$$\begin{array}{r} 324 \\ \div 36 \\ \hline \end{array}$$

$$\begin{array}{r} 224 \\ \div 28 \\ \hline \end{array}$$

$$\begin{array}{r} 361 \\ \div 19 \\ \hline \end{array}$$

$$\begin{array}{r} 756 \\ \div 21 \\ \hline \end{array}$$

$$\begin{array}{r} 615 \\ \div 41 \\ \hline \end{array}$$

$$\begin{array}{r} 342 \\ \div 18 \\ \hline \end{array}$$

$$\begin{array}{r} 312 \\ \div 24 \\ \hline \end{array}$$

Janu uses mats to dry papayas. She dries 8 papayas with a mat. She has 72 papayas to dry. How many mats does she need?

Lesson 36

A Food Processor's Story

Read and discuss the sentence.




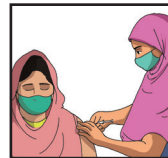

Roshmin wants to have a dry **fruit trade business**.

fruit

trade

business

Name the pictures and match them with the words.



knife

health
worker

food
processor

frying pan

plumber

grinder

Read and write the words.

fruit	fruit	
trade	trade	
business	business	
plums	plums	

learn	learn	
pack	pack	
thanks	thanks	

Read the passage.

Roshmin wants to have a dry fruit trade business.

She needs to learn how to start a dry fruit trade business.

Yasmin tells Roshmin that she needs to buy good plums from the market.

Roshmin learns how to dry plums from Yasmin.

Roshmin buys good plums from the market and dries them in the sun.

Roshmin also learns how to pack the dry plums.

Roshmin packs the dry plums and sells them in the market.

Roshmin is happy that she now has a fruit trade business.

She thanks Yasmin for her help. Roshmin is also happy.

Answer the questions.

What does Roshmin want to have?

What does Yasmin tell Roshmin?

How does Roshmin learn how to dry plums?

What does Roshmin buy from the market?
_____.

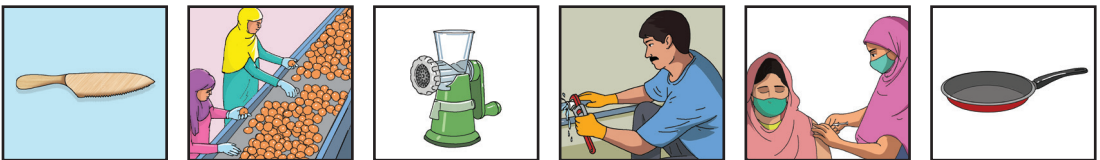
Why is Roshmin happy now?
_____.

ဝါကျကိုဖတ်ပြီး ဆွေးနွေးပါ။

ယာစ်မိန်သည် တက်ကြွသော သစ်သီးရောင်းသူတစ်ဦးဖြစ်သည်။

တက်ကြွသော	သစ်သီးရောင်းသူ
-----------	----------------

ပုံများ၏ အမည်ကို ရွတ်ဆိုပြီး စကားလုံးများနှင့် တွဲဖက်ပါ။



အစားအစာ ပြင်ဆင်ထုပ်ပိုးသူ	ကြိတ်စက်	ကျန်းမာရေးဝန်ထမ်း	ဒယ်အိုး	ရေပိုက်သမား	ဓား
---------------------------	----------	-------------------	---------	-------------	-----

စကားလုံးများကို ဖတ်ပြီးရေးပါ။

တက်ကြွသော		ဇီးသီးခြောက်များ	
လှေလာ		အထုပ်ထဲ	
သစ်သီးရောင်းသူ		ထည့်သည်	

စာပိုဒ်ကို ဖတ်ပါ။

ရိုရှ်မိန်သည် ယာစ်မိန်ထံမှ ဇီးသီးခြောက်လုပ်နည်းကို လေ့လာခဲ့သည်။

ရိုရှ်မိန်သည် ဈေးတွင် ဇီးသီးခြောက်ရောင်းနည်းကိုလည်း လေ့လာသည်။

ရိုရှ်မိန်သည် ဇီးသီးခြောက်များကို အထုပ်ထဲထည့်ပြီး ဈေးတွင်ရောင်းသည်။

မေးခွန်းများကို ဖြေပါ။

ရိုရှ်မိန်သည် ယာစ်မိန်ထံမှ မည်သည်ကို လေ့လာခဲ့သနည်း။

Solve the problems.

$$\begin{array}{r} 36 \\ \div 4 \\ \hline \end{array}$$

$$\begin{array}{r} 84 \\ \div 7 \\ \hline \end{array}$$

$$\begin{array}{r} 96 \\ \div 4 \\ \hline \end{array}$$

$$\begin{array}{r} 85 \\ \div 5 \\ \hline \end{array}$$

$$\begin{array}{r} 576 \\ \div 12 \\ \hline \end{array}$$

$$\begin{array}{r} 504 \\ \div 36 \\ \hline \end{array}$$

$$\begin{array}{r} 756 \\ \div 28 \\ \hline \end{array}$$

$$\begin{array}{r} 418 \\ \div 19 \\ \hline \end{array}$$

$$\begin{array}{r} 238 \\ \div 14 \\ \hline \end{array}$$

$$\begin{array}{r} 900 \\ \div 25 \\ \hline \end{array}$$

$$\begin{array}{r} 324 \\ \div 18 \\ \hline \end{array}$$

$$\begin{array}{r} 384 \\ \div 24 \\ \hline \end{array}$$

Roshmin sells dry plums at the market. She had 2376 dry plums. She bought 248 plums from the market and dried them in the sun. She sold 937 dry plums today at the market. How many dry plums does she have now?

Lesson 37

An Electrician's Skills


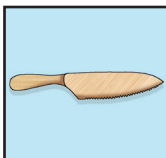
Read and discuss the sentence.



An **electrician** fits and repairs **wiring** and **sockets**.

electrician	wiring	sockets
-------------	--------	---------

Name the pictures and match them with the words.



electrician	knife	grinder	frying pan	barber	mechanic
-------------	-------	---------	------------	--------	----------

Read and write the words.

electrician	<i>electrician</i>	
wiring	<i>wiring</i>	
sockets	<i>sockets</i>	
electrical	<i>electrical</i>	
systems	<i>systems</i>	

problems	problems	
linesperson	linesperson	
Installs	installs	
learner	learner	

Read the passage.

Different types of electricians have different skills.

Different types of electricians work in different places.

An electrician fits and repairs wiring and sockets.

Electricians install electrical systems.

Electricians fix electrical problems.

An electrician can also work as a linesperson.

A linesperson installs and fixes electrical lines.

People learn how to be electricians in training.

Learner electricians can work as part of their training.

Learner electricians learn how to keep safe as part of their training.

Being an electrician is a good trade.

Answer the questions.

Do the different types of electricians have different skills?

Yes. _____.

Where do the different types of electricians work?

_____.

What does an electrician fit and repair?

What does a linesperson fix and repair?

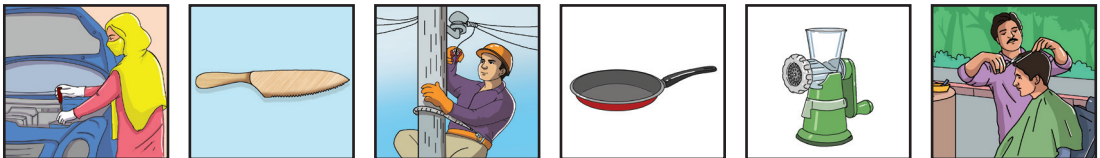
How do people learn how to be electricians?

ဝါကျကိုဖတ်ပြီး ဆွေးနွေးပါ။

လျှပ်စစ်သမားတစ်ဦးသည် မီးကြိုးများနှင့် ပလပ်ပေါက်များကို တပ်ဆင် ပြုပြင် လဲလှယ်ပေးသည်။

မီးကြိုးများ	ပလပ်ပေါက်များ	တပ်ဆင်	ပြုပြင်	လဲလှယ်
--------------	---------------	--------	---------	--------

ပုံများ၏ အမည်ကို ရွတ်ဆိုပြီး စကားလုံးများနှင့် တွဲဖက်ပါ။



လျှပ်စစ်သမား	ဆံသဆရာ	စက်ပြင်သမား	ကြိတ်စက်	ဓား	ဒယ်အိုး
--------------	--------	-------------	----------	-----	---------

စကားလုံးများကို ဖတ်ပြီးရေးပါ။

လျှပ်စစ်သမား		ပိုင်ယာကြိုးများ	
ပလပ်ပေါက်များ		တပ်ဆင်ခြင်း	
လျှပ်စစ်ပြဿနာ		ဖြေရှင်းခြင်း	

စာပိုဒ်ကို ဖတ်ပါ။

လျှပ်စစ်သမားတစ်ဦးသည် ဝိုင်ယာကြိုးများ၊ ပလပ်ပေါက်များနှင့် အခြားပစ္စည်းများကို တပ်ဆင်ခြင်း၊ ပြုပြင်ခြင်းနှင့် လဲလှယ်ခြင်းများ ပြုလုပ်သည်။

လျှပ်စစ်သမားများသည် အိမ်၊ ရုံး၊ ဈေးဆိုင်များ၊ ဆေးရုံနှင့် စက်ရုံများတွင် လျှပ်စစ်တပ်ဆင်ခြင်းနှင့် လျှပ်စစ်ပြဿနာများဖြေရှင်းခြင်းများ ပြုလုပ်ပါသည်။

မေးခွန်းများကို ဖြေပါ။

လျှပ်စစ်သမားများသည် မည်သည့်နေရာများတွင် လျှပ်စစ်တပ်ဆင်ပေးသနည်း။

Solve the problems.

$$\begin{array}{r} 28 \\ \underline{\div 4} \end{array}$$

$$\begin{array}{r} 77 \\ \underline{\div 7} \end{array}$$

$$\begin{array}{r} 48 \\ \underline{\div 4} \end{array}$$

$$\begin{array}{r} 90 \\ \underline{\div 5} \end{array}$$

$$\begin{array}{r} 72 \\ \underline{\div 12} \end{array}$$

$$\begin{array}{r} 78 \\ \underline{\div 26} \end{array}$$

$$\begin{array}{r} 74 \\ \underline{\div 28} \end{array}$$

$$\begin{array}{r} 95 \\ \underline{\div 19} \end{array}$$

$$\begin{array}{r} 238 \\ \underline{\div 14} \end{array}$$

$$\begin{array}{r} 900 \\ \underline{\div 25} \end{array}$$

$$\begin{array}{r} 324 \\ \underline{\div 18} \end{array}$$


$$\begin{array}{r} 384 \\ \underline{\div 24} \end{array}$$

Idris is an electrician. He gets paid 210 taka each day he works. Last week he worked for five days. This week he worked for four days. How much did he earn in two weeks?

Lesson 38

An Electrician's Tools

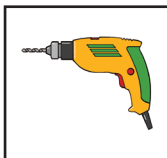

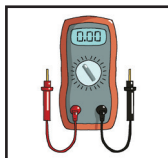
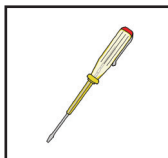
Read and discuss the sentence.



An electrician uses a **voltmeter**,
a **tester** and a **drill**.

voltmeter	tester	drill
-----------	--------	-------

Name the pictures and match them with the words.



electrician	tailor	voltmeter	drill	tester	carpenter
-------------	--------	-----------	-------	--------	-----------

Read and write the words.

voltmeter	voltmeter	
tester	tester	
drill	drill	
measure	measure	

voltage	<i>voltage</i>	
electricity	<i>electricity</i>	
helmet	<i>helmet</i>	
goggles	<i>goggles</i>	
gloves	<i>gloves</i>	
safety	<i>safety</i>	

Read the passage.

Electricians use many tools to do their work.

An electrician uses a voltmeter to measure voltage.

An electrician uses a tester to see if there is electricity.

An electrician uses a drill to fix a meter on the wall.

Electricians use safety equipment.

They need to keep safe.

Electricians use a helmet, goggles and gloves for their safety.

Electricians learn to use the different tools they need in training.

Electricians also learn how to keep safe in training.

Answer the questions.

What does an electrician use to measure voltage?

What does an electrician use a tester for?

What does an electrician use to fix a meter on the wall?

_____.

What do electricians use for their safety?

_____.

How do electricians learn to use the different tools they need?


_____.

ဝါကျကိုဖတ်ပြီး ဆွေးနွေးပါ။

လျှပ်စစ်သမားများသည် ဗို့မီတာ၊ တက်စတာနှင့် ပလာယာများကို အသုံးပြုကြသည်။

လျှပ်စစ်သမား	ဗို့မီတာ	တက်စတာ	ပလာယာ
--------------	----------	--------	-------

ပုံများ၏ အမည်ကို ရွတ်ဆိုပြီး စကားလုံးများနှင့် တွဲဖက်ပါ။



လျှပ်စစ်သမား	လွန်စက်	တက်စတာ	လက်သမား	ဗို့မီတာ	စက်ချုပ်သမား
--------------	---------	--------	---------	----------	--------------

စကားလုံးများကို ဖတ်ပြီးရေးပါ။

လျှပ်စစ်သမား		ဗို့မီတာ	
တက်စတာ		လွန်စက်	
ဟဲလ်မတ်		ဘွတ်ဖိနပ်	

စာပိုဒ်ကို ဖတ်ပါ။

လျှပ်စစ်သမားတစ်ဦးသည် မီးဆင်ရန်အတွက် ဗို့မီတာ၊ တက်စတာ၊ ပလာယာများနှင့် ဝက်အူလှည့်ကို အသုံးပြုသည်။

လျှပ်စစ်သမားတစ်ဦး၏ လုံခြုံရေးဆိုင်ရာ ပစ္စည်းကိရိယာများတွင် လက်အိတ်များ၊ မျက်မှန်များ၊ ဟဲလ်မတ်များနှင့် ဘွတ်ဖိနပ်များ ပါဝင်သည်။

မေးခွန်းများကို ဖြေပါ။

လျှပ်စစ်သမားတစ်ဦးသည် မီးဆင်ရန် မည်သည့်ပစ္စည်းများ အသုံးပြုသနည်း။

Solve the problems.

$$\begin{array}{r} 112 \\ \underline{\div 14} \end{array}$$

$$\begin{array}{r} 600 \\ \underline{\div 25} \end{array}$$

$$\begin{array}{r} 54 \\ \underline{\div 18} \end{array}$$

$$\begin{array}{r} 96 \\ \underline{\div 24} \end{array}$$

$$\begin{array}{r} 49 \\ \underline{\div 7} \end{array}$$

$$\begin{array}{r} 225 \\ \underline{\div 15} \end{array}$$

$$\begin{array}{r} 80 \\ \underline{\div 8} \end{array}$$

$$\begin{array}{r} 156 \\ \underline{\div 12} \end{array}$$

$$\begin{array}{r} 713 \\ \underline{- 371} \end{array}$$

$$\begin{array}{r} 653 \\ \underline{- 248} \end{array}$$

$$\begin{array}{r} 787 \\ \underline{- 356} \end{array}$$

$$\begin{array}{r} 521 \\ \underline{+ 132} \end{array}$$

$$\begin{array}{r} 614 \\ \underline{+ 275} \end{array}$$

$$\begin{array}{r} 537 \\ \underline{+ 386} \end{array}$$

$$\begin{array}{r} 643 \\ \underline{+ 269} \end{array}$$


$$\begin{array}{r} 582 \\ \underline{- 158} \end{array}$$

Omar is an electrician. He needs to buy a new voltmeter. A new voltmeter costs 5,000 taka. Omar earns 250 taka a day. How many days will it take him to earn enough to buy the voltmeter?

Lesson 39

An Electrician's Story


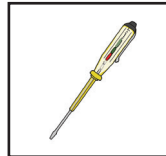

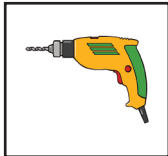

Read and discuss the sentence.



Anis is an **overhead linesperson**.

overhead	linesperson
----------	-------------

Name the pictures and match them with the words.



electrician	tester	mason	craftsperson	voltmeter	drill
-------------	--------	-------	--------------	-----------	-------

Read and write the words.

overhead	overhead	
linesperson	linesperson	
electricity	electricity	
wires	wires	

lines	lines	
voltmeter	voltmeter	
measure	measure	
voltage	voltage	
goggles	goggles	
helmet	helmet	
gloves	gloves	

Read the passage.

Anis is an overhead linesperson.

Anis works on the electricity lines.

Anis puts wires into homes from the electricity lines.

Anis uses many tools to put wires into homes from the electricity lines.

Anis uses a voltmeter to measure voltage on the electricity lines.

Anis uses a tester to see if there is electricity on the electricity lines.

Anis uses a drill to set a meter on the wall.

Anis needs a helmet, goggles and gloves for safety when he works on the electricity lines.

Anis learned how to use different tools in training.

Answer the questions.

Is Anis an overhead linesperson?

Yes. _____.

Where does Anis work?

_____.

What does Anis use to set wires into homes from the electricity lines?

What does Anis use a voltmeter for?

What does Anis use a tester for?

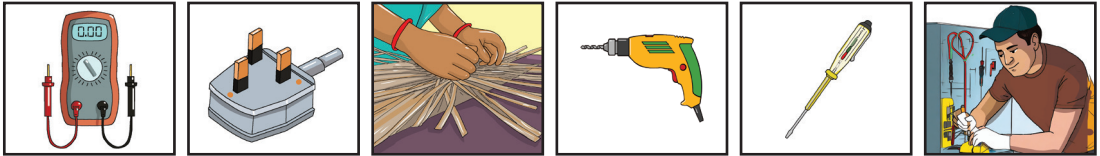
What does Anis need for safety when he works on the electricity lines?

ဝါကျကိုဖတ်ပြီး ဆွေးနွေးပါ။

အာနိစ်သည် တော်သော အိုဗာဟက်လိုင်းမန်းတစ်ဦးဖြစ်သည်။

တော်သော	အိုဗာဟက်လိုင်းမန်း
---------	--------------------

ပုံများ၏ အမည်ကို ရှုတ်ဆိုပြီး စကားလုံးများနှင့် တွဲဖက်ပါ။



လွန်စက်	တက်စတာ	ပို့မီတာ	လျှပ်စစ်သမား	လက်မှုပညာရှင်	သရီးပင်ပလပ်
---------	--------	----------	--------------	---------------	-------------

စကားလုံးများကို ဖတ်ပြီးရေးပါ။

ပို့မီတာ		လိုင်းမန်း	
ကရိန်း		တူးခါးပတ်	
တော်သော		အိုဗာဟက်	

စာပိုဒ်ကို ဖတ်ပါ။

အာနိစ်သည် လျှပ်စစ်ဆင်ရန်နှင့် ပြုပြင်ရန် ကရိန်းဖြင့် မြေပြင်အထက်သို့ တက်သွားသည်။

အာနိစ်သည် မြေပြင်အထက်တွင် အလုပ်လုပ်ရန် တက်စတာ၊ ဝက်အူလှည့်နှင့် ပလာယာများဖြင့် တူးခါးပတ်ထဲထည့်ကာ ယူဆောင်လာသည်။

မေးခွန်းများကို ဖြေပါ။

အာနိစ်သည်မြေပြင်အထက်တွင် အလုပ်လုပ်ရန် မည်သည်တို့ကို ယူဆောင်လာသနည်း။

Solve the problems.

$$\begin{array}{r} 88 \\ \div 4 \\ \hline \end{array}$$

$$\begin{array}{r} 69 \\ \div 23 \\ \hline \end{array}$$

$$\begin{array}{r} 494 \\ \div 19 \\ \hline \end{array}$$

$$\begin{array}{r} 976 \\ \div 16 \\ \hline \end{array}$$

$$\begin{array}{r} 8 \\ \times 7 \\ \hline \end{array}$$

$$\begin{array}{r} 19 \\ \times 16 \\ \hline \end{array}$$

$$\begin{array}{r} 27 \\ \times 3 \\ \hline \end{array}$$

$$\begin{array}{r} 16 \\ \times 28 \\ \hline \end{array}$$

$$\begin{array}{r} 610 \\ +271 \\ \hline \end{array}$$

$$\begin{array}{r} 507 \\ +346 \\ \hline \end{array}$$

$$\begin{array}{r} 643 \\ +239 \\ \hline \end{array}$$

$$\begin{array}{r} 582 \\ -157 \\ \hline \end{array}$$

$$\begin{array}{r} 714 \\ -515 \\ \hline \end{array}$$

$$\begin{array}{r} 602 \\ -428 \\ \hline \end{array}$$

$$\begin{array}{r} 875 \\ -636 \\ \hline \end{array}$$

$$\begin{array}{r} 321 \\ +132 \\ \hline \end{array}$$

Anis installs overhead electrical systems. He has 2371 metres of lines to install. He installed 925 metres last month. How many metres does he need to install this month?

Anis installs 63 metres of overhead electrical lines a day. How many meters does he install in 12 days?

Lesson 40

Review


Read and discuss the sentence.



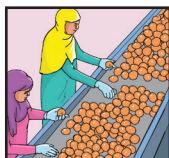
Different **tradespeople** need different **skills** and **tools**.

tradespeople	skills	tools
--------------	--------	-------

Name the pictures and match them with the words.



barber	tailor	carpenter	plumber	community health worker
--------	--------	-----------	---------	-------------------------



craftsperson	mason	food processor	electrician	mechanic
--------------	-------	----------------	-------------	----------

Read the passage.

Different tradespeople need different skills and tools.

Barbers cut hair in different styles. Barbers use scissors, combs and razors to cut hair.

Tailors need different sewing skills to make clothes. Tailors use a sewing machine, scissors, measuring tape and needles to make clothes.

A carpenter uses a handsaw, a chisel and a hammer to make wooden goods.

Plumbers and pipefitters both install and repair pipes. Plumbers and pipefitters use wrenches, pliers and pipe cutters to install and repair pipes.

A health worker visits people in the community with a first aid kit, a thermometer, medicines and bandages.

A motor mechanic uses a screwdriver, pliers, a torch and other tools to install and repair engines. A car mechanic needs a jack to lift a car to change a tire.

A wall painter paints walls with a roller and brushes. A woodcarver carves patterns and figures on wooden goods with chisels. A block printer prints clothes with woodblocks.

Bricklayers and masons use a trowel, a wire brush, a brick hammer and many other tools to make walls. Bricklayers and masons make walls with bricks, blocks and stones.

A tradesperson may fry peanuts with a frying pan to sell them in packets. A food processor may grind spices with a grinder to make powder and sell the powder in the market.

Electricians use a voltmeter, a tester and a drill to install electrical systems.

Answer the questions.

What tools do barbers use?

What do tailors use to make clothes?

What do carpenters use to do their work?
_____.

What do plumbers and pipefitters do?
_____.

What does a block printer use to print on fabrics?
_____.

What does a woodcarver carve wooden goods with?
_____.

What do bricklayers and masons use to make walls?
_____.

What do electricians use to install electrical systems?
_____.


ဝါကျကိုဖတ်ပြီး ဆွေးနွေးပါ။

ကျွန်ုပ်သည် အသက်မွေးလုပ်ငန်းအတွက်
ကျွမ်းကျင်လုပ်သားတစ်ဦးဖြစ်သည်။


အသက်မွေးလုပ်ငန်း

ကျွမ်းကျင်လုပ်သား

ပုံများ၏ အမည်ကို ရွတ်ဆိုပြီး စကားလုံးများနှင့် တွဲဖက်ပါ။



စက်ပြင်သမား	စက်ချုပ်သမား	လက်မှုပညာရှင်	အုတ်စီသမား	ရုပ်ရွာကျန်းမာရေးဝန်ထမ်း
-------------	--------------	---------------	------------	--------------------------



ဆံသဆရာ	ပိုက်ပြင်သမား	အစားအစာ ထုပ်ပိုးပြင်ဆင်သူ	လျှပ်စစ်သမား	လက်သမား
--------	---------------	---------------------------	--------------	---------

စကားလုံးများကို ဖတ်ပြီးရေးပါ။

သတ္တိ		အသက်မွေးလုပ်ငန်း	
စတင်ရန်		ကျွမ်းကျင်သော	
တီထွင်ဖန်တီးနိုင်စွမ်း			

စာပိုဒ်ကို ဖတ်ပါ။

ကျွန်ုပ်မှာ အသက်မွေးလုပ်ငန်းအသစ်ကို စတင်ရန် သတ္တိရှိပါသည်။
 အသက်မွေးဝမ်းကြောင်းလုပ်ငန်းအတွက် ကျွမ်းကျင်သော
 လုပ်သားတစ်ယောက်ဖြစ်ရန် တီထွင်ဖန်တီးနိုင်စွမ်းရှိချင်ပါသည်။

မေးခွန်းများကို ဖြေပါ။

အသက်မွေးလုပ်ငန်းအသစ်ကို စတင်ရန် သင့်မှာ သတ္တိရှိပါသလား။

Solve the problems.

$\begin{array}{r} 691257 \\ + 231967 \\ \hline \end{array}$	$\begin{array}{r} 3165 \\ + 4578 \\ \hline \end{array}$	$\begin{array}{r} 47297 \\ + 25848 \\ \hline \end{array}$	$\begin{array}{r} 6157 \\ + 1269 \\ \hline \end{array}$
$\begin{array}{r} 713403 \\ - 371554 \\ \hline \end{array}$	$\begin{array}{r} 6532 \\ - 3246 \\ \hline \end{array}$	$\begin{array}{r} 43123 \\ - 23947 \\ \hline \end{array}$	$\begin{array}{r} 587321 \\ - 132587 \\ \hline \end{array}$
$\begin{array}{r} 56 \\ \times 27 \\ \hline \end{array}$	$\begin{array}{r} 9 \\ \times 6 \\ \hline \end{array}$	$\begin{array}{r} 13 \\ \times 25 \\ \hline \end{array}$	$\begin{array}{r} 16 \\ \times 21 \\ \hline \end{array}$
$\begin{array}{r} 238 \\ \div 14 \\ \hline \end{array}$	$\begin{array}{r} 75 \\ \div 25 \\ \hline \end{array}$	$\begin{array}{r} 112 \\ \div 8 \\ \hline \end{array}$	$\begin{array}{r} 408 \\ \div 34 \\ \hline \end{array}$



Accelerated Adult Learning - Basic Literacy

Lesson 1
Literacy and Livelihood Skills

Name the letter and its sound.


Father made an airplane.
airplane
A

Name the pictures and match them with the letters.

				
A	B	a	b	A B

